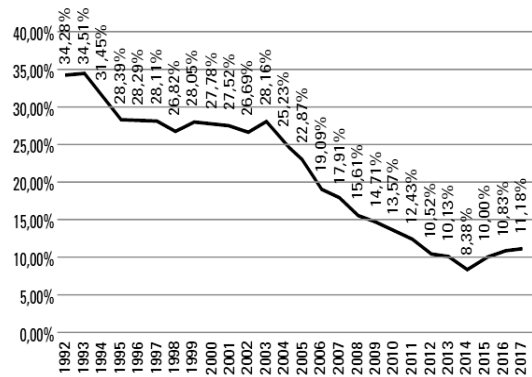


LISTA EXTRA: População



Fonte: FGV Social/CPS a partir de microdados da PNAD, PNADC Trimestral e PNADC Anual/IBGE2

Questão 01)

O IBGE divulga hoje as estimativas das populações residentes nos 5.570 municípios brasileiros, com data de referência em 1º de julho de 2019. Estima-se que o Brasil tenha 210,1 milhões de habitantes e uma taxa de crescimento populacional de 0,79% ao ano, apresentando queda do crescimento quando comparado ao período 2017/2018, conforme a *Projeção da População 2018*.

Fonte:

<https://agenciadenoticias.ibge.gov.br/agencia-sala-de-imprensa/2013-agencia-de-noticias/releases/25278-ibge-divulga-as-estimativas-da-populacao-dos-municipios-para-2019>. Acesso: 28/08/2019.

Uma constatação correta dessa estimativa anunciada pelo IBGE é:

- a) A população brasileira está diminuindo.
- b) O município de São Paulo deixou de ser o mais populoso do país.
- c) Os três estados mais populosos do país localizam-se na região Sudeste.
- d) Acre é o estado menos populoso.
- e) São Paulo é o estado que tem o maior número de regiões metropolitanas.

Questão 02)

O gráfico abaixo mostra um estudo no Brasil sobre:

- a) A queda da taxa de natalidade.
- b) Inflação brasileira.
- c) Evolução da pobreza.
- d) População urbana.
- e) Evolução do crescimento vegetativo.

Questão 03)

O Papa Francisco celebrou neste domingo (8/9) uma missa para cerca de 1 milhão de pessoas no Campo Diocesano de Soaman Drakizay, Madagascar, país que tem 25 milhões de habitantes.

Fonte: terra.com.br//noticias/mundo, 8/9/2019.

Madagascar, país visitado pelo Papa:

- a) é um país de religião muçulmana, o que torna expressivo o número dos participantes da missa celebrada pelo Papa;
- b) foi incluído no roteiro de visitas do Papa ao continente africano por ser considerado um exemplo no campo da preservação ambiental;
- c) com aproximadamente 35% da população malgaxe católica, Madagascar vem sendo

considerado como exemplo em políticas de erradicação da miséria;

- d) apresenta problema de desflorestamento e degradação ambiental, exigindo medidas estruturais que garantam uma melhor distribuição de renda;
- e) é um dos países mais pobres do mundo, tanto no campo econômico quanto em biodiversidade, dadas as difíceis condições naturais.

Questão 04)



<https://www.broadbandchoices.co.uk/guides/tv/>

A imagem, acima, oferece a ideia de uma nova forma de assistir televisão, cada vez mais comum entre a população mundial, inclusive em países menos desenvolvidos. Assinale a alternativa que apresenta essa nova forma de assistir TV.

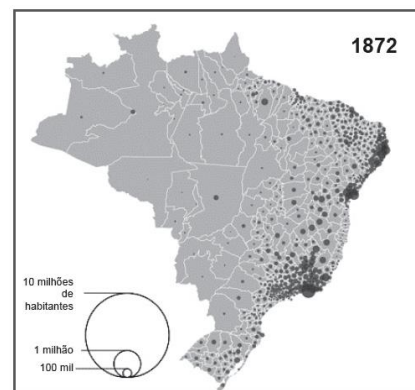
- a) A possibilidade da gravação de programas televisivos está retornando, como acontecia na época do videocassete. A diferença está na maneira de armazenamento: antes era utilizada a fita de videocassete e agora o *pendrive* é plugado direto na TV, para gravação instantânea.
- b) As operadoras de telefonia celular ganham cada vez mais mercado junto aos usuários, devido principalmente à evolução das formas de conexão, como 3G, 4G e futuramente o 5G. Essas tecnologias revolucionaram a maneira de conexão, extinguindo praticamente a tecnologia de conexão *wifi*.
- c) A onda cultural estilo *Vintage* trouxe de volta costumes dos anos 1980 e 1990, evidenciado na imagem que apresenta um aparelho de TV

com desenho antigo e antena interna para captação de sinal, além do custo reduzido para adquirir aparelhos de TV mais baratos, em função da tecnologia ultrapassada.

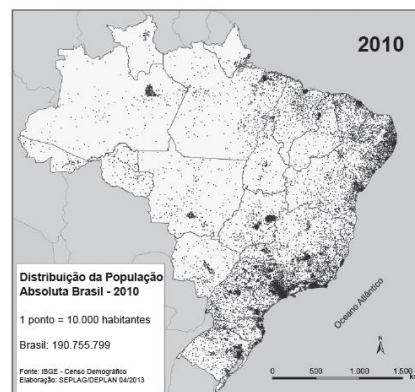
- d) A nova forma de assistir televisão se chama TV sob demanda, ou *TV On Demand*, na qual a grade de programação pode ser controlada pelo usuário. Essa mudança aconteceu, sobretudo pela melhora na velocidade das redes imateriais, com destaque para as conexões *wi-fi* e 4G e o consequente fortalecimento das plataformas de *streaming*, que oferecem conteúdos *on line*, sem a necessidade de *download*.

Questão 05)

Analise os mapas a seguir.



Fonte: IBGE - Evolução da População - 1872 (Adaptado).



Fonte: IBGE Censo Demográfico. Distribuição da População Absoluta – Brasil - 2010.

A percepção do povoamento do território brasileiro, do século XIX até o XXI, evidencia uma relação de

- a) equilíbrio entre as regiões interioranas e as regiões litorâneas.
- b) contraste entre as zonas litorâneas e as regiões do interior do país.
- c) perfeita vinculação econômica entre todas as regiões do território.
- d) atração populacional para a região Norte devido ao fluxo industrial.
- e) concentração urbana no interior e baixa concentração no litoral.

- c) *Trash.*
- d) *Beatnik.*
- e) *Funk.*

Questão 07)

O conceito de precariado se refere a uma classe emergente, definida por uma combinação distinta de relações. As pessoas do precariado estão sendo forçadas a aceitar uma vida de empregos instáveis, sem uma identidade ocupacional, sendo exploradas e sem horários regulares de trabalho.

<<https://tinyurl.com/y6kgyeqz>> Acesso em: 10.10.2019. Adaptado.

De acordo com o texto, o precariado é um grupo de pessoas que

- a) não aceita a tutela do Estado e negocia sua força de trabalho diretamente com o governo, que o repassa às empresas, conseguindo, dessa forma, remunerações acima do mercado.
- b) não é explorado pelo fato de trabalhar sem folgas semanais, uma vez que possui registro na carteira de trabalho, e aceita, voluntariamente, não tirar as férias anuais previstas em lei.
- c) não possui um emprego formal e, portanto, não possui direitos trabalhistas, estando sujeito às atividades com longas jornadas de trabalho, por prazo determinado e em condições insalubres.
- d) não recebe mais que um salário mínimo, contudo, possui horários regulares de trabalho e está amparado pelas leis trabalhistas, que permitem uma remuneração menor que a prevista na Constituição Federal.
- e) não quer ter um emprego formal, mas tem seus direitos trabalhistas legais respeitados, mesmo cumprindo jornadas de trabalho superiores a vinte horas diárias, e também

Questão 06)

Observe a imagem a seguir.



Disponível em: <<https://jamstewforyou.wordpress.com/2016/05/08/london-calling-and-the-world-answers-the-use-of-punk-rock-around-the-world/>>.

Acesso em: 07 set. 2019.

O visual e especialmente o estilo utilizado no corte de cabelo caracterizam o grupo como representantes de qual movimento da contracultura?

- a) *Punk.*
- b) *Hippie.*

possui estabilidade no emprego de caráter oficial.

Questão 08)

O Brasil é reconhecido internacionalmente por seu amplo programa de imunização, que disponibiliza vacinas gratuitamente à população por meio do Sistema Único de Saúde (SUS). Criado em 1973, o Programa Nacional de Imunização (PNI) teve início com 4 tipos de vacinas e, hoje, oferece 27 à população sem qualquer custo. Nem mesmo a crise econômica afeta o bilionário orçamento da iniciativa, o qual foi de R\$ 3,9 bilhões em 2017.

No entanto, a cobertura vacinal no Brasil está em queda. Números do PNI analisados pela BBC Brasil, em 2017, mostram que o governo tem tido cada vez mais dificuldades em bater a meta de vacinar a maior parte da população. Um exemplo é a poliomielite: a doença, responsável pela paralisia infantil, está erradicada no País desde 1990.

Para o governo, é cedo para dizer se há tendência de queda real ou se são oscilações por mudanças em curso no sistema de notificação; porém, os números já preocupam. “Ainda é muito precoce para dizer se há oscilação real, mas estamos preocupados, sim. O sinal amarelo acendeu,” afirma a coordenadora do PNI.

O que o governo mais teme é que a redução de pessoas vacinadas crie bolsões de indivíduos suscetíveis a doenças antigas e controladas no País.

<<https://tinyurl.com/y8ur2re7>> Acesso em: 10.10.2019. Adaptado.

Uma consequência do problema abordado é

a) a erradicação de doenças infectocontagiosas em função da ausência de seus transmissores,

pois a não imunização faz os agentes patogênicos morrerem, já que o indivíduo imunizado foi inoculado com grandes quantidades de vírus.

- b) a elevação do índice de mortalidade do grupo de pessoas que se vacinam, pois a vacina provoca uma resposta imunológica, fazendo com que o organismo pare de produzir anticorpos.
- c) a diminuição de pessoas imunizadas e a consequente eliminação dos vírus transmissores de doenças infectocontagiosas, levando ao desaparecimento das patologias.
- d) um aumento no gasto com saúde pública, pois as pessoas tendem a ficar doentes caso não sejam imunizadas, uma vez que a transmissão dos vírus tende a aumentar.
- e) um surto mundial de doenças como a poliomielite, a asma e o sarampo, uma vez que as vacinas têm um antígeno fortalecido, levando milhões de pessoas à morte.

Questão 09)

Levando-se em conta o ponto de vista da política pública, a agricultura familiar caracteriza-se pela atividade produtiva desenvolvida pela família numa área de até quatro módulos fiscais, podendo contratar 50% de mão de obra proporcional à quantidade dos membros da própria família. A esse respeito, analise as afirmações a seguir.

1. Módulo fiscal é uma unidade em km^2 , cujo valor é fixado pelos sindicatos rurais e pelo IBGE, para cada município, levando em conta a renda obtida no tipo de exploração predominante.
2. A Agricultura Familiar apresenta dois sérios problemas, que são: não fixar a população no campo e absorver um número pouco expressivo de mão de obra.
3. A agricultura familiar tem ainda forte peso na cesta básica dos brasileiros, mas a área média

dos estabelecimentos familiares é bastante inferior à dos não familiares.

4. A melhoria de renda do segmento de produção familiar, por meio de sua inserção no mercado, tem impactos importantes no interior do país e nas metrópoles.
5. Uma das causas da baixa produtividade apresentada por grande parte dos rebanhos de leite, no segmento agricultura familiar, é a inadequada nutrição das vacas em alguma fase do ano.

- a) A expansão da cafeicultura no Sudeste brasileiro.
- b) Os fluxos de massas de ar que causaram eventos extremos de chuvas.
- c) A expansão da fronteira agrícola no Centro-Sul do país.
- d) A direção dos fluxos de água que alimentam os grandes reservatórios hídricos da Região Sudeste.
- e) Os fluxos de migrações internas ocorridas no Brasil.

Estão corretas:

- a) 1 e 5, apenas.
- b) 2 e 4, apenas.
- c) 3, 4 e 5, apenas.
- d) 1, 2 e 3, apenas.
- e) 1, 2, 3, 4 e 5.

Questão 10)

O mapa esquemático a seguir exibe um importante fato geográfico ocorrido no Brasil. Examine-o e assinale qual é esse fato.

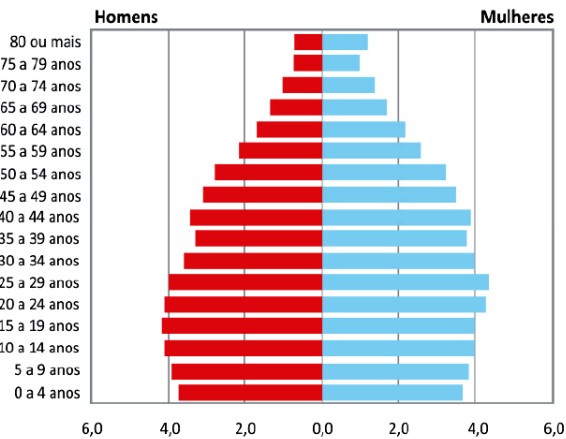


Questão 11)

Introduzido nos anos 1990, o fator previdenciário vinculou o acesso à aposentadoria ao envelhecimento da população, visando à sustentabilidade financeira da previdência. Assim, cada aumento da expectativa de vida implica em aumento do tempo necessário de contribuição para manutenção do mesmo valor do benefício. (...) Ao desconsiderar as diferenças raciais em relação à expectativa de vida, o fator previdenciário é um fator de discriminação racial no Brasil. Tal evidência não pode ser ignorada pelas políticas públicas, sob o risco de ficar cada vez mais distante a meta de alcançar um país mais justo.

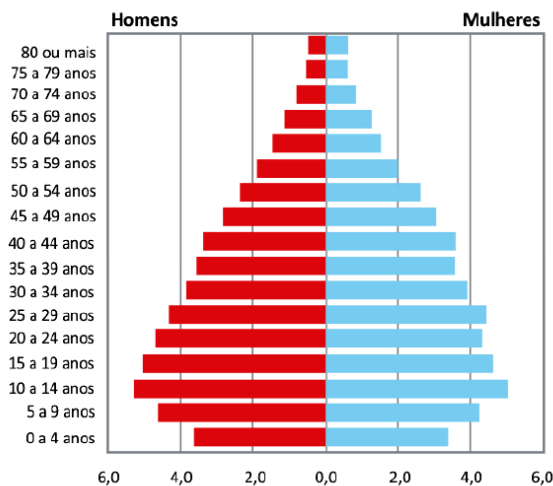
Disponível em <http://dssbr.org/site/2012/01/fator-previdenciario-fator-de-discriminacao-racial/>.

Pirâmide etária da população residente de cor ou raça branca, segundo faixas etárias selecionadas e sexo, Brasil, 2008



Fonte: IBGE, microdados PNAD
 Tabulações LAESER: Fichário das Desigualdades Raciais

Pirâmide etária da população residente de cor ou raça preta e parda, segundo faixas etárias selecionadas e sexo, Brasil, 2008

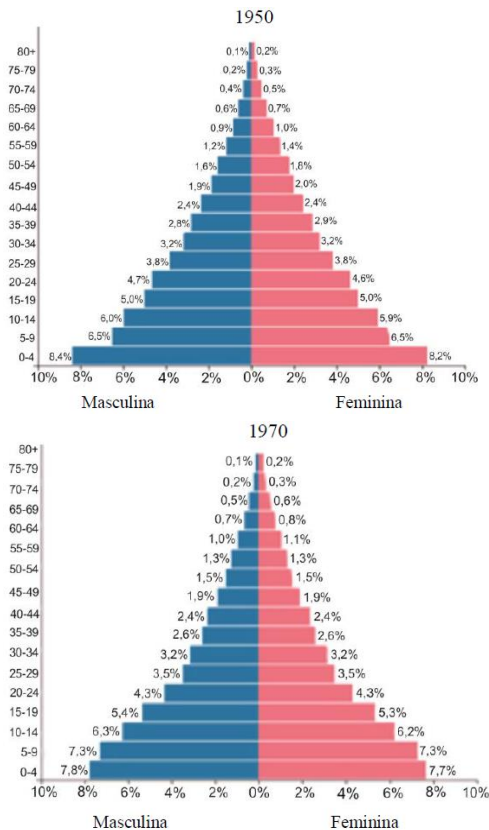


Fonte: IBGE, microdados PNAD
 Tabulações LAESER: Fichário das Desigualdades Raciais

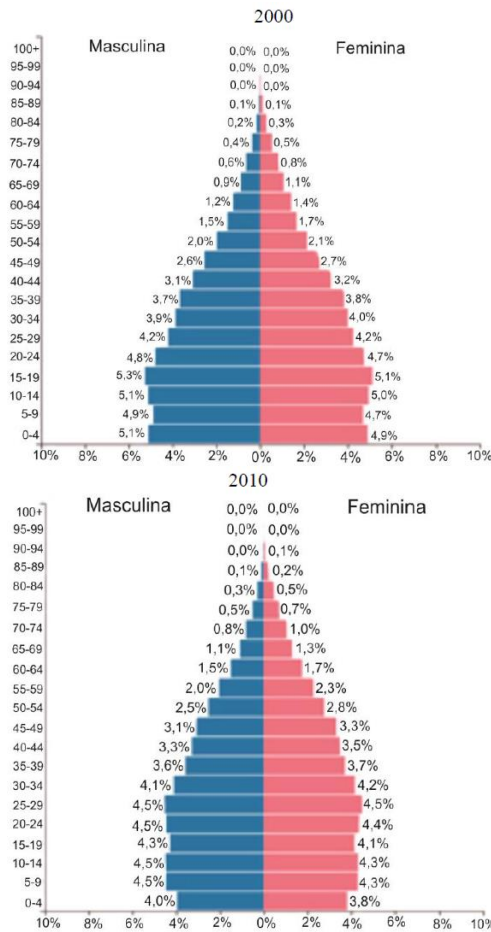
Questão 12)

A população de um país pode ser caracterizada com base em vários parâmetros, dentre eles: idade e gênero, conforme se verifica a seguir.

PIRÂMIDES ETÁRIAS: BRASIL (1950 – 2010)



- Numa pirâmide etária, que aspecto visual (em relação à sua forma) permite estimar a proporção da população idosa em relação ao total da população?
- Cite e explique dois fatores de natureza socioeconômica que contribuem para a diferenciação entre as pirâmides etárias.
- Usando dados da comparação entre as pirâmides etárias, explique por que o texto afirma que “o fator previdenciário é um fator de discriminação racial no Brasil”.

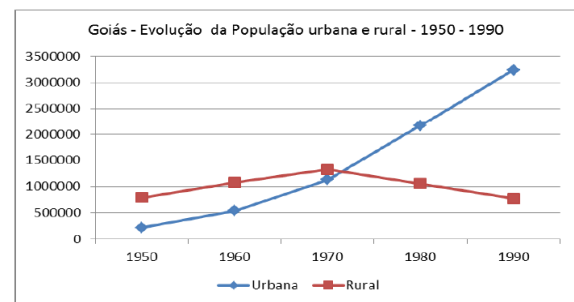


passaram a predominar populações nas faixas etárias entre 35 e 49 anos de idade.

- e) os dados relativos ao século XXI demonstram que ocorreu uma queda acentuada na natalidade da população, visto que a faixa etária de 0 a 4 anos era menos expressiva que as faixas de 5 a 9 e de 10 a 14 anos.

Questão 13)

Observe o gráfico a seguir.



Com base nas pirâmides etárias apresentadas, constata-se o seguinte:

- na década de 2000, a população era classificada como jovem, pois o número de habitantes com idades entre 0 e 9 anos era o dobro da população nas faixas etárias de 15 a 24 anos.
- desde os anos 1945, o país passa por intenso processo de envelhecimento, sendo que, em todas as décadas, a quantidade de homens supera o número de mulheres, demonstrando uma sobrevivência maior do sexo masculino quando comparado ao feminino.
- iniciou-se o processo de transição demográfica na década de 1970, quando houve a inversão da pirâmide etária ou o estreitamento de sua base.
- entre as décadas de 1950 e os anos 2010, o Brasil deixou de ser um país jovem e passou a ser um país com população madura, visto que

A elevada taxa de urbanização, com crescimento da população urbana, e a queda na população rural verificada entre os anos de 1950 e 1980 se deu, sobretudo, em virtude

- do aumento na oferta de escolas e creches nas cidades para os filhos dos trabalhadores rurais que migraram para o espaço urbano.
- do grande crescimento industrial, que atraiu os trabalhadores do campo em busca de trabalho e de melhores condições de vida.
- de incentivos governamentais para atrair a mão de obra do campo para a cidade a fim de assegurar o crescimento industrial.
- da política governamental de distribuição de moradias populares nas diferentes cidades para as famílias de baixa renda.
- da modernização da agricultura, que substituiu a mão de obra do trabalhador rural por máquinas agrícolas.

Ruas de terra

Esse é o morro [...].

Aqui não vejo nenhum clube poliesportivo

Pra molecada frequentar,

Nenhum incentivo

O investimento no lazer é muito escasso

O centro comunitário é um fracasso [...].

BROWN, Mano. *Fim de semana no parque*.

Intérprete:

Racionais MC's. CD Raios do Brasil. Zimbabwe, 1993.

A letra da música faz referência a diversos problemas relacionados à vida nas periferias, especialmente das grandes cidades. Quanto a esses problemas, verifica-se que:

- podem ser correlacionados à falta de regularização do solo urbano em áreas mais distantes do centro da cidade em decorrência das limitações impostas pelos planos diretores municipais.
- têm suas origens relacionadas às desigualdades sociais, que levam as populações de baixa renda a ocupar áreas inadequadas, tais como encostas de morros e áreas de mananciais.
- são originários da inadequação de políticas habitacionais que promovem a regularização fundiária e reassentamento de populações em áreas de risco.
- relacionam-se à falta de legislação e de estudos que indiquem as áreas passíveis de ocupação e os espaços que deverão ser preservados nas cidades.
- podem ser caracterizados como reflexos da elevada taxa de fertilidade das mulheres brasileiras, especialmente em áreas urbanas.

Questão 14)

O Brexit (saída britânica, em tradução literal) vem sendo discutido desde 2016 quando, num plebiscito, cerca de 52% da população do Reino Unido decidiu pela sua separação da União Europeia (UE). As origens desse movimento separatista se devem

- à dificuldade de cumprimento de acordos comerciais, de imigração, de relações trabalhistas entre o Reino Unido e a União Europeia.
- aos conflitos entre a Irlanda do Norte e a República da Irlanda em relação aos acordos comerciais, de imigração e de relações trabalhistas.
- à quebra de contrato entre a União Europeia e o Reino Unido, o que gerou uma multa de cerca de 200 bilhões de reais a ser paga pelo Reino Unido.
- ao fechamento das fronteiras entre a Irlanda do Norte (que compõe o Reino Unido) e a República da Irlanda (país independente que compõe a UE).
- à percepção da população de que a permanência do Reino Unido na União Europeia trazia prejuízos à economia dos países, especialmente à da Inglaterra.

Questão 15)

Leia a letra de música a seguir.

Chegou o fim de semana,

todos querem diversão

só alegria, nós estamos no verão [...].

Milhares de casas amontoadas,

associada à rapidez do aumento da densidade e da escala da circulação.

(Adaptado de Ruy Moreira, Da região à rede e ao lugar: a nova realidade e o novo olhar geográfico sobre o mundo. *etc..., espaço, tempo e crítica*. n. 1(3), p. 57, 2007.)

No mundo contemporâneo, as redes configuram uma nova forma de organização geográfica das sociedades porque

- colocam todos os lugares em conexão, garantem fluidez ao processo global de produção e homogeneizam os espaços.
- anulam a importância dos territórios e fronteiras nacionais na articulação da geopolítica mundial, reconfigurando a geografia do poder.
- constituem sistemas usados livremente pelas sociedades em busca de projetos emancipatórios, ampliando os conflitos e as disputas políticas.
- sobrepoem-se, na escala mundo, às configurações regionais do passado, impondo um novo funcionamento reticular e hierárquico aos territórios.

Questão 18)

Região Integrada de Desenvolvimento Econômico (RIDE)
- Distrito Federal.

Questão 16)

O chamado Triângulo Norte da América Central (TNAC) é uma das regiões mais violentas do planeta, equiparando-se às zonas de guerra. Grupos organizados praticam diariamente extorsão, perseguição, sequestros, assassinatos, abuso sexual, entre outros crimes. Em 2018, sob condições extremas de pobreza e violência, sem escolha, milhares de pessoas do TNAC abandonaram suas casas, deslocando-se por perigosas rotas em direção ao México e aos EUA.

Considerando essa situação geográfica, indique os países que compõem a região do TNAC e a atual estratégia adotada pela população emigrante.

- Venezuela, Costa Rica, Nicarágua; pequenos grupos deslocam-se por trens para fugir da violência dos guias ilegais (*coyotes*).
- El Salvador, Honduras, Guatemala; os emigrantes deslocam-se a pé em grandes caravanas por ser mais seguro e para se beneficiarem de apoio mútuo.
- Cuba, Haiti, República Dominicana; pequenos grupos deslocam-se em barcos, por ser mais seguro e para diminuir os custos da travessia.
- Belize, Nicarágua, Guatemala; os emigrantes deslocam-se a pé em grandes caravanas para diminuir os custos com os guias ilegais (*coyotes*).

Questão 17)

A origem da sociedade em rede decorre do desenvolvimento dos meios de transporte, das comunicações e da transmissão de energia, característica essencial da organização espacial da sociedade moderna – uma sociedade umbilicalmente ligada à evolução da técnica, à aceleração das interligações e da movimentação das pessoas, de objetos e de capitais sobre os territórios. Nesse contexto, tem lugar a mudança,



Legenda
 □ Distrito Federal □ Goiás ■ Minas Gerais

(Fonte: SUDECO - Ministério do Desenvolvimento Regional.)

Observando o mapa acima e considerando o conhecimento sobre o tema, é correto afirmar que a área representada é uma região de planejamento composta por

- três entes federativos, instituída nos anos 1990 para promover o desenvolvimento econômico e melhorias em políticas públicas; tem sua origem no processo de metropolização de Brasília-DF.
- dois entes federativos, instituída nos anos 1970 para ordenar a política de transportes face à elevada oferta de trabalho existente nos municípios do entorno do Distrito Federal.
- três entes federativos, instituída nos anos 1980 para promover o desenvolvimento sustentável com preservação do patrimônio histórico e natural face ao elevado crescimento demográfico regional.
- dois entes federativos, instituída nos anos 1960 para promover setores da agroindústria e dos serviços; tem sua origem nas estratégias de integração previstas no planejamento regional.

Questão 19)

Leia os versos a seguir.

Tô enfiado na lama

É um bairro sujo

Onde os urubus têm casas

E eu não tenho asas

Mas estou aqui em minha casa

Onde os urubus têm asas

Eu vou pintando, segurando as paredes

No mangue do meu quintal e manguetown

Andando por entre os becos

Andando em coletivos

Ninguém foge ao cheiro sujo

Da lama da manguetown (...)

(...) Fui no mangue catar lixo

Pegar caranguejo

Conversar com urubu.

“Manguetown” – Intérprete: Chico Science e Nação Zumbi. In: *Afrociberdelia*.

Intérprete: Chico Science e Nação Zumbi. Rio de Janeiro: Chaos, 1996, CD, faixa 12, (3:15 min).

O texto acima reporta trechos da canção intitulada “Manguetown”, e assim como demais canções, atividades, ou movimentos culturais e artísticos, muitas vezes expressam críticas sociais sobre diferentes problemáticas que atingem a sociedade. Sobre as temáticas que permeiam o espaço urbano e temas correlatos, assinale a alternativa **CORRETA**.

- a) No Brasil, inúmeras Cidades Médias ganharam destaque nos últimos anos, tornando-se centros de consumo e atração para novas indústrias e negócios. Por serem recentes e planejadas, não apresentam problemas como desigualdade econômica, política e cultural, comumente presentes na urbanização da América Latina.
- b) Os pressupostos do Planejamento Urbano garantem a prática de uma política urbana pautada em conhecimentos científicos que são utilizados pelos gestores públicos. Isso impede a geração de problemas urbanos como, por exemplo, o mau uso e ocupação do solo, bem como, a prática da especulação imobiliária.
- c) Embora excluídos ou marginalizados pela sociedade, os catadores de materiais recicláveis presentes comumente em áreas urbanas são importantes agentes para dar uma função ao lixo, como, por exemplo, inserindo o material coletado novamente no processo produtivo.
- d) A ampliação do espaço urbano no Brasil respeita as diretrizes ambientais e o Plano Diretor de cada município. Essas medidas impedem que a população esteja em situação de vulnerabilidade ambiental ou social. Com isso, não há ocupação de áreas inadequadas como o mangue ou o descarte de lixo em locais impróprios.
- e) A população urbana está em constante declínio em função da redução da taxa de natalidade. Com isso, problemas comuns relacionados à moradia, infraestrutura, saúde, educação, segurança alimentar, empregos, segurança pública, recursos naturais, dentre outros, estão em constante redução.

Questão 20)

“O espaço geográfico brasileiro foi se estruturando inicialmente em razão de uma economia exploradora, voltada para a remessa de mercadorias para a Europa. Assim, as cidades se desenvolveram junto aos principais portos. Tornaram-se, assim, entrepostos comerciais. Por

isso, hoje, grande parte das capitais estaduais se encontra ao longo do litoral brasileiro”.

In TAMDJIAN e MENDES. Geografia: Estudos para compreensão do espaço. São Paulo: FTD, 2013, p. 664.

Considerando o fragmento acima e com base em seus conhecimentos sobre a ocupação territorial do Brasil, assinale a alternativa **CORRETA**.

- a) O povoamento irregular no Brasil ocorreu no início da colonização, mas a partir das frentes de colonização apoiadas pelo Estado desde a década de 1970 o território foi igualmente povoado.
- b) O Brasil é um país pouco populoso, já que a densidade demográfica é baixa, apesar de ser bastante povoado.
- c) Com vistas a melhorar o povoamento do País, o Estado incentiva as frentes de colonização, preconizando o uso sustentável da terra.
- d) Apesar de haver um fluxo de migração para as bordas da Amazônia, o centro-sul do País ainda apresenta maior densidade dos meios técnico-científicos e das finanças do País.
- e) O processo de povoamento do Brasil demonstra, desde o início, a independência do País com relação ao capital externo, apresentando autossuficiência econômica e cultural.

Questão 21)

Em 23 de junho de 2016 os eleitores no Reino Unido votaram majoritariamente em um referendo para deixar a União Europeia (UE), o chamado **Brexit** — que é uma contração das palavras Britain Exit. Sobre o Reino Unido e o complexo processo de negociação da saída da União Europeia, assinale a alternativa **CORRETA**.

- a) Entre os argumentos utilizados pelos defensores do Brexit durante a campanha que antecedeu o referendo, teve forte repercussão os supostos riscos do fenômeno da imigração e um discurso nacionalista.
- b) Entre as diversas dificuldades encontradas na negociação para a saída da União Europeia, destaca-se o fato de o Reino Unido atualmente fazer parte da zona monetária única do bloco, ao adotar o Euro como moeda.
- c) O processo de negociação encontra dificuldades em avançar porque o resultado do referendo que aprovou a saída da União Europeia foi vencedor em apenas três dos quatro países que compõem o Reino Unido: Inglaterra, Escócia e País de Gales. No outro país onde houve a consulta — a Irlanda do Norte —, a maioria da população foi contra e por isso a saída da União Europeia representa, também, a saída desse país do Reino Unido.
- d) A intensa integração que caracteriza o atual sistema financeiro mundial fez com que a crise financeira de 2008 impactasse fortemente os países membros da União Europeia com economia mais frágil, como o Reino Unido e a Grécia, dificultando a continuidade desses países no bloco.
- e) Após a Segunda Guerra Mundial, o Reino Unido teve um papel protagonista e fez parte do primeiro conjunto de países que fundaram a Comunidade Econômica Europeia (CEE), que posteriormente avançaria para a instituição da União Europeia.

Questão 22)

A partir dos conhecimentos referentes aos aspectos demográficos e urbanos do Brasil e do mundo, marque **V** nas afirmativas verdadeiras e **F**, nas falsas.

- () A pendularidade da população de baixa renda nos países emergentes resulta, dentre outros fatores, da segregação do espaço urbano.

- () Algumas cidades, como Tóquio e São Paulo, são simultaneamente megacidades e cidades globais.
- () No Brasil, a desurbanização que ocorre atualmente difere da desmetropolização do século passado pelo fato de não buscar um estilo de vida diferente, mas sim a eliminação de problemas gerados pelo crescimento desordenado das metrópoles.
- () A queda da taxa de fecundidade no Brasil alterou a pirâmide etária, que passou a apresentar a base mais estreita.
- () Para sustentar a explosão demográfica, alguns países adeptos do neomalthusianismo adotam uma política denominada sujeição moral.

A alternativa que apresenta a sequência correta, de cima para baixo, é a

01. F V F V F
02. F F V F V
03. F V F F V
04. V V F V F
05. V F F V F

Questão 23)

O Ciclone Tropical Idai atingiu o litoral de Moçambique na noite de quinta -feira (21/03/2019), provocando grandes danos na cidade de Beira. Cerca de 500 mil pessoas ficaram sem energia, afetando também o setor de comunicações.

Disponível em <https://www.climatempo.com.br/>.

Adaptado.

Essa notícia refere - se ao Ciclone Tropical que atingiu principalmente Moçambique, Zimbábue e Malawi. Eventos dessa magnitude e superiores – o

Ciclone Idai atingiu apenas a categoria 2 em uma escala de 1 a 5 – ocorrem em outros locais do planeta e não repercutem da mesma forma, com a perda de centenas de vidas. Isso ocorre em função

- a) da grande presença de populações não nativas, que não têm tradição em lidar com eventos dessa natureza.
- b) do relevo de planalto que caracteriza Moçambique, Zimbábue e Malawi, em especial na zona costeira.
- c) da presença de rede hidrográfica e florestas que contribuem para a formação de ciclones dessa natureza e magnitude.
- d) da presença de águas superficiais do oceano Índico, com temperaturas mais reduzidas que o habitual, em especial no Canal de Moçambique.
- e) das características socioeconômicas da região com populações vulneráveis e reduzida capacidade do poder público em prestar atendimento à população.

Questão 24)

Em Barcelona, em 2012 e 2013, a cada 15 minutos uma família recebia ordem de despejo. Desde então, o panorama da habitação mudou totalmente. “(...) Estamos assistindo uma onda de especulação imobiliária (...) que agora se foca no aluguel”, explica Daniel Pardo da Associação de Moradores para um Turismo Sustentável. “Este fenômeno pôs em marcha um processo acelerado e violento de expulsão de inquilinos”, acrescenta. Onde a pressão da especulação imobiliária internacional e a indústria do turismo causaram um aumento substancial nos preços dos aluguéis, os catalães têm hoje de gastar mais de 46% dos seus salários com o aluguel. Para os jovens até os 35 anos, a taxa de esforço aumenta até os 65% (...). “Não queremos que os habitantes de Barcelona sejam substituídos por pessoas com maior poder de compra”, diz a porta-voz do Sindicato dos Inquilinos. Só em Barcelona, 15 fundos de

investimento imobiliário possuem 3.000 apartamentos.

“Os habitantes querem a sua cidade de volta”.
Reportagem de Ulrike Prinz para o Goethe - Institut Madrid. Maio/2018. Adaptado.

Os conceitos que explicam as dinâmicas urbanas descritas no excerto são:

- a) Financeirização e Industrialização.
- b) Gentrificação e Segregação.
- c) Aglomeração e Conurbação.
- d) Industrialização e Segregação.
- e) Conurbação e Gentrificação.

Questão 25)

De acordo com o relatório *O Estado da Segurança Alimentar e Nutrição no Mundo 2018* (FAO, 2018) a fome aumentou no planeta. Em 2017 passavam fome 821 milhões de pessoas em todo o mundo, sendo esse o terceiro ano consecutivo com aumento desse número. Sobre este contexto é correto afirmar que

- a) a causa da fome está relacionada às políticas assistencialistas implantadas pelos países emergentes.
- b) uma das consequências da fome no mundo é a migração para as regiões afetadas.
- c) a fome tem como consequência crises energéticas e desequilíbrio ambiental.
- d) entre as principais causas do aumento da fome no mundo estão as crises econômicas, os conflitos armados e os fenômenos naturais.

Questão 26)

“Goiânia é uma das cinco cidades brasileiras com maior número de condomínios horizontais fechados e a primeira cidade na região centro oeste, com 255 unidades, quase 70% do total de condomínios horizontais do estado de Goiás”.

CHAVES, V. *Goiânia está entre as 5 cidades com mais condomínios horizontais no Brasil, diz pesquisa.*

Disponível em:

g1.globo.com/go/goias/mercadoimobiliario/noticia/2019/05/17/goiania-esta-entre-as-5-cidades-com-mais-condominios-horizontais-no-brasil-diz-pesquisa.ghtml. Acesso em: 30 ago. 2019.

Considerando a citação acima e a animação *Tito e os Pássaros* (2018) – na qual o Jardim Redoma é um empreendimento imobiliário formado por condomínios residenciais dotados de um sistema de segurança que paralisa qualquer intruso, seja ele um animal ou um humano indesejável – a alternativa que melhor descreve o movimento da população de média e alta renda para moradia em condomínios horizontais fechados de alto padrão é:

- Imigração.
- Autossegregação.
- Favelização.
- Integração.

Questão 27)

Brasil atinge 210 milhões de habitantes, diz IBGE

A população brasileira foi estimada em 210,1 milhões de habitantes em 5.570 municípios, segundo o Instituto Brasileiro de Geografia e Estatística (IBGE). A estimativa com o total de habitantes dos estados e dos municípios se refere a 1º de julho de 2019 e foi publicada no “Diário Oficial da União” desta quarta-feira (28).

O número representa um aumento de 0,79% na comparação com a população estimada do ano

passado. Em 2018, o IBGE estimou um total de 208,5 milhões pessoas.

O estado de Roraima teve o maior aumento populacional, de 5,1%. Ano passado, a população estimada lá era de 576,5 mil habitantes, e este ano chegou a 605,7 mil — mais 29,1 mil pessoas. Segundo o IBGE, Boa Vista também foi a capital com maior taxa de crescimento no último ano: 6,35%.(...)

Fonte:

<https://g1.globo.com/economia/noticia/2019/08/28/brasil-atinge-210-milhoes-de-habitantes-diz-ibge.ghtml>

Assinale a alternativa que justifica CORRETAMENTE a notícia acima.

- O título da notícia evidencia a fase quatro da evolução demográfica, também chamada fase pós-industrial. Países com mais de 200 milhões de habitantes, obrigatoriamente, saem da fase de transição e adentram a fase quatro, considerada a última da evolução demográfica.
- O aumento de 0,79% da população, se comparado a 2018, prova a baixa taxa de fecundidade da mulher brasileira e o consequente crescimento vegetativo negativo, fato recente no país. Essa tendência estima uma redução da população absoluta brasileira até 2050.
- A relação entre a população e o número de municípios brasileiros evolui para o aumento da população nas cidades de pequeno porte populacional, aumentando a densidade das mesmas e diminuindo a população e a importância das metrópoles nacionais.
- O aumento populacional de Roraima é resultado do processo migratório no estado. O fluxo de imigrantes venezuelanos é o principal motivo desse crescimento bem acima da média nacional. Mesmo com os números se elevando, Roraima continua o estado menos populoso da federação, com pouco mais de 600 mil habitantes.

Questão 29)

A notícia abaixo revela corretamente

Tecnologia vai tirar 7 milhões de empregos até 2021, afirma estudo

Estudo do Fórum Econômico Mundial aponta que as revoluções tecnológicas encerrarão 7 milhões de vagas até 2021. Pessoas de meia idade devem ser as mais afetadas e população nessa faixa etária crescerá ainda mais nos próximos anos.

Vera Batista

Postado em 12/02/2018 08:00 / atualizado em 11/02/2018 23:37

A pesquisa revela que, se por um lado, a tecnologia é o motor fundamental para o desenvolvimento, por outro, vai criar um abismo ainda maior de desigualdade.

Disponível em:

<https://www.correiobraziliense.com.br/app/noticia/economia/2018/02/12/>

- a) o fortalecimento do desemprego conjuntural, impulsionado pela segunda revolução industrial e conseqüente avanço tecnológico, permitindo o fortalecimento da substituição do trabalho repetitivo humano pela máquina.
- b) o desemprego temporário, comum nas mudanças de fase da Divisão Internacional do Trabalho, leva à reacomodação dos desempregados ao início do novo período tecnológico, o que deve acontecer após 2021.
- c) o avanço do desemprego estrutural, onde postos de trabalho são eliminados e não retornam, criando uma massa de desempregados com poucas perspectivas de realocação no setor em que atuavam.
- d) a realidade e capilarização da indústria 4.0 em, praticamente, todo o planeta. Essa nova

Questão 28)

As pessoas mais pobres do mundo vêm de muitas terras longínquas e acabam perecendo no Triângulo de Afar, na Etiópia, um dos desertos mais quentes da Terra. (...) Em algumas das sepulturas de imigrantes sem dúvida jazem somalis: refugiados de guerra. Outras provavelmente contêm desertores da Eritreia. Ou oromos etíopes enfraquecidos pela seca. (...) Há quanto tempo depomos nossos ossos nessas trilhas desoladas do Chifre da África?

(National Geographic – 08/2019 – especial migrações).

Fonte: <https://www.ana.gov.br/>

As afirmações seguintes adotam caminhos distintos na evolução sobre o que foi dito **acima**. **Assinale a única alternativa que segue um caminho CORRETO.**

- a) Os refugiados somalis são uma consequência de grupos terroristas que atuam no país, sendo o mais importante deles o Boko Haram, grupo fundamentalista islâmico xiita.
- b) O Triângulo de Afar, ou Depressão de Afar, abrange Etiópia, Eritreia, Djibuti e avança pelo Sahel até a base da cadeia do Atlas, em território líbio. Possui as temperaturas médias mais elevadas do mundo, sobretudo no deserto de Danakil.
- c) Entre os países que formam o Chifre da África, estão Etiópia, Eritreia e Somália. Este último passa por uma guerra civil, desde meados dos anos 1980, com disputas territoriais entre Clãs e grupos terroristas, entre eles a Al Shabab.
- d) A movência da população subsaariana encontra na rota de Afar o percurso mais curto e, relativamente, seguro na tentativa de chegar à Europa. Por isso essa é a rota mais utilizada pelos retirantes que tentam se afastar de guerras, seca e perseguições religiosas.

proposta industrial avança a passos largos e sua principal consequência é a eliminação de postos de trabalho, principalmente os relacionados à média qualificação.

Na Europa, o capitalismo comercial ajudou a criar nas cidades uma infraestrutura muito importante para o desenvolvimento industrial a partir da segunda metade do século XX. No Brasil pode-se observar esta mesma associação com a formação de inúmeras metrópoles que

TEXTO: 1 - Comum à questão: 30

As cidades comerciais europeias eram o lugar da riqueza acumulada na primeira fase do capitalismo. Já se constituíam espaços de concentração de capitais disponíveis acumulados com o mercantilismo, eram o espaço do poder econômico e político (lugar de moradia dos capitalistas e sede dos Estados modernos), e nelas também se concentrava uma grande reserva de força de trabalho. Além disto, o capitalismo comercial ajudou a criar nas cidades uma infraestrutura muito importante para o desenvolvimento industrial. Houve um grande avanço técnico e científico, formou-se uma rede bancária e um mercado urbano, pois na medida em que, afastados de suas condições de produção no campo e impedidos de continuar a realizar sua produção artesanal, os trabalhadores tornaram-se consumidores dos elementos necessários à sua sobrevivência.

As cidades comerciais já eram, de fato, o “bom” lugar para o desenvolvimento industrial. E assim se deu. Lefêbvre afirma que, rapidamente, as indústrias aproximaram-se destas cidades, transformaram o seu caráter, adaptando-se às novas necessidades. Este movimento de absorção foi se dando à medida que estas cidades encontravam-se em territórios/países que estavam se industrializando, o que é possível ser observado até os nossos dias. De fato, a indústria apropriou-se até mesmo dos símbolos urbanos pré-industriais, como Atenas e Veneza, criando espaços dicotômicos: a Atenas antiga em acrópole e a Atenas moderna – industrial – junto ao porto; a Veneza, símbolo do renascimento urbano mercantil e a Veneza continental – área de concentração de suas indústrias atualmente.

(SPOSITO, Maria Encarnação B. **Capitalismo e urbanização**. São Paulo: Contexto, 1988. p. 51)

- surgiram a partir de processos acelerados extremamente concentradores de população e renda, fatos que promoveram fortes desequilíbrios, tanto no espaço regional como nacional.
- propiciaram a realocação de recursos humanos e econômicos, fato que gerou um expressivo crescimento econômico que culminou com a elevação do Brasil à categoria de emergente.
- passaram a comandar uma nova redistribuição demográfica, interrompendo um processo de interiorização da população e expansão e crescimento das pequenas e médias cidades.
- tornaram-se polos de irradiação de novas tecnologias, sobretudo importadas, que ampliaram as diferenças socioeconômicas e culturais entre as áreas urbanas e rurais em todo o país.
- transformaram a dinâmica demográfica das regiões Sudeste e Nordeste, que apresentaram forte crescimento porque passaram a atrair mão de obra qualificada das demais regiões brasileiras.

Questão 31)

A concepção de democracia racial no Brasil acaba por ocultar as discriminações sofridas diariamente pelos(as) negros(as) e indígenas, pois imaginamos uma sociedade em que brancos(as), negros(as) e indígenas convivem harmoniosamente e não há discriminação étnico-racial.

Assinale a alternativa **CORRETA**.

Questão 30)

- a) As desigualdades entre brancos(as), negros(as) e indígenas é histórica e podem ser verificadas pelos dados, por exemplo, de desemprego, renda e escolaridade.
- b) Vivemos em um país democrático e sem nenhum tipo de distinção que provoque desigualdades.
- c) Nascermos livres e iguais e depende dos indivíduos a conquista econômica, educacional e cultural.
- d) Negros(as) e indígenas têm historicamente as mesmas oportunidades que os(as) brancos(as).

- e) a hedionda matança deve ser compreendida como uma questão exclusivamente africana, pois as armas utilizadas no genocídio eram, inclusive, fabricadas e vendidas por países africanos..

Questão 32)

Relatório elaborado pela Organização da Unidade Africana (OUA) afirma que países como França, EUA, Bélgica e instituições como ONU poderiam, mas não tentaram evitar o genocídio de 1994 em Ruanda, com cerca de 1 milhão de mortos (quase 10% da população). A partir de início de abril de 1994, durante cerca de cem dias, milícias hutus conhecidas como interhamwe lideraram uma campanha de extermínio da população tutsi.

(<https://www1.folha.uol.com.br/fsp/mundo/2000/07/08>)

Quanto ao chamado genocídio de Ruanda é correto afirmar que:

- a) a ONU atuou decidida e energicamente, mas não conseguiu evitar o genocídio;
- b) a Bélgica era acusada no relatório por disseminar o ódio racial ao exacerbar as divisões étnicas entre hutus e tutsis;
- c) EUA e Bélgica vetaram no Conselho de Segurança da ONU qualquer iniciativa para evitar o genocídio;
- d) o genocídio ocorreu após a morte, em um acidente aéreo, do presidente de Ruanda Habyarmana, um tutsi;

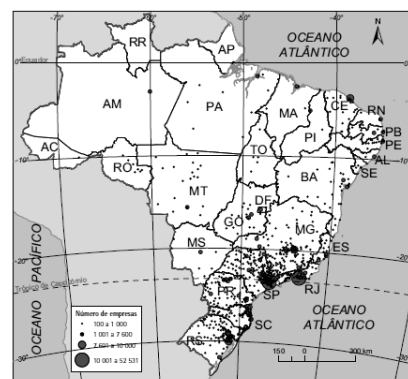
Questão 33)

Podemos afirmar sobre dados recentes da população brasileira que:

- a) a expectativa de vida da população masculina é menor que a da feminina e, em parte, isso está relacionado à violência urbana e a acidentes de trânsito.
- b) o crescimento vegetativo caiu devido à diminuição da taxa de mortalidade nos últimos 40 anos.
- c) o frequente aumento da taxa de mortalidade infantil verificado na última década é resultado da estagnação no serviço de saneamento básico.
- d) o ligeiro aumento na base da pirâmide etária indica uma reorientação demográfica verificada nos últimos anos.
- e) os planos assistencialistas adotados pelo governo brasileiro erradicaram a alta concentração de renda do país.

Questão 34)

Observe o mapa a seguir:



Fonte: IBGE, Diretoria de Pesquisas, Cadastro Central de Empresas

e) distribuição e concentração de renda.

A concentração no Centro-sul do fenômeno cartografado está relacionado a (ao):

- a) a proximidade das jazidas carboníferas.
- b) maior centro consumidor e oferta de mão-de-obra.
- c) produção de energia eólica.
- d) maior proximidade das centrais sindicais com a consequente articulação do operariado.
- e) presença da malha ferroviária, única região do país em que supera a rodoviária.

Questão 36)

Criação de novos recortes

territoriais só pode ser feita

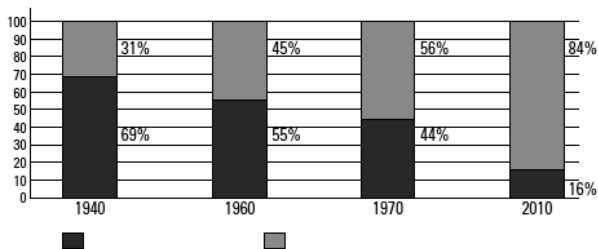
por legislação específica

... são recortes instituídos por lei complementar estadual, de acordo com a determinação da Constituição Federal de 1988, visando integrar a organização, o planejamento e a execução de funções públicas de interesse comum. É competência dos estados a definição (...), nos termos do Artigo 25, Parágrafo 3º da Constituição Federal.

Fonte: IBGE, 23/05/2017.

Questão 35)

O gráfico representa a evolução no Brasil da:



Elaborado com base em: IBGE. **Dados históricos dos censos: população residente, por situação do domicílio e por sexo: 1940-1996.** Disponível em <www.ibge.gov.br/home/estatistica/populacao/censohistorico/1940_1996.shtm>; IBGE. **Censo Demográfico 2010.** Disponível em: <www.censo2010.ibge.gov.br/sinopse/index.php?dados=8>. Acesso em: 28 jul. 2017.

- a) população masculina e feminina.
- b) taxas de natalidade e mortalidade.
- c) emigração e imigração.
- d) população rural e urbana.

O texto trata do conceito de:

- a) região metropolitana.
- b) regiões brasileiras.
- c) município.
- d) unidade federativa.
- e) capital de estado.

Questão 37)

Observe a canção a seguir:

A cara do Brasil

O Brasil é o que tem talher de prata

Ou aquele que só come com a mão?

Ou será que o Brasil é o que não come

O Brasil gordo na contradição?

O Brasil que bate tambor de lata

Ou que bate carteira na estação?

O Brasil é o lixo que consome

Ou tem nele o maná da criação?

(...)

A gente é torto igual Garrincha e Aleijadinho

Ninguém precisa consertar

Se não der certo, a gente se vira sozinho

Decerto então nada vai dar

Fonte: A Cara do Brasil. Vicente Barreto e Celso Viáfora. CD: 'E a turma chegando pra dançar. Dabliú Discos, 1999.



Fonte: Department of Economic and Social Affairs. **World Population Prospects**. 2017 revision. Nova York. UN, 2017. p17-19.

- a) as maiores economias mundiais.
- b) as grandes potências bélicas.
- c) os mais populosos do mundo.
- d) as maiores áreas territoriais.
- e) as maiores biodiversidades.

No transcorrer das estrofes, a canção faz analogia com a:

- a) violência urbana no Brasil.
- b) concentração de renda.
- c) Constituição brasileira.
- d) diversidade cultural no Brasil.
- e) presença de milionários no país.

Questão 39)

A imagem de satélite a seguir destaca:



- a) o maior delta do mundo de um rio que nasce em uma região úmida e posteriormente percorre uma zona árida, transportando ao longo de seu curso sedimentos e detritos orgânicos que são depositados no baixo curso.
- b) um rio de regime equatorial drenado por elevada pluviosidade, durante o ano todo, com sentido longitudinal e extremamente aproveitado pelo alto potencial energético.

Questão 38)

O mapa abaixo destaca:

- c) um rio intermitente que percorre zonas áridas e é vital para o transporte da população ribeirinha local, além de ser importante para a geração de energia e irrigação da agricultura dos países localizados na área de sua bacia.
- d) o maior rio do mundo, que apresenta um trajeto latitudinal, correndo do interior para o litoral, transportando sedimentos e detritos orgânicos, apresentando uma foz em forma de estuário.
- e) um dos maiores rios do mundo com regime endorreico em região que, no passado, se desenvolveu uma das mais importantes civilizações da história.

4) Gab: D

5) Gab: B

No Brasil, desde o Período Colonial, a ocupação do espaço e a distribuição da população caracterizam-se pela discrepância entre a ocupação litorânea e o interior do país. Uma das razões para essa dicotomia encontra-se no fato de o litoral favorecer o fluxo econômico para o exterior.

6) Gab: A

O grupo retratado representa o movimento punk. Trata-se de uma representação reconhecida especialmente pelo corte de cabelo. O movimento origina-se nos Estados Unidos na década de 1970, com o destaque de bandas musicais como Sex Pistols e Ramones. No Brasil, o movimento musical fez sucesso com bandas como Plebe Rude e Aborto Elétrico, que estão na origem da Legião Urbana e Capital Inicial. Atualmente a expressão “punk” também é utilizada como gíria.

7) Gab: C

8) Gab: D

9) Gab: C

10) Gab: E

11) Gab:

- a) Na análise de uma pirâmide etária, a população idosa – com 60 anos ou mais – corresponde a sua parte superior, portanto o estreitamento do topo de uma pirâmide etária evidencia um reduzido número de idosos, reflexo de uma baixa expectativa de vida, relativa à população preta e parda. Ao

Questão 40)

Nas eleições de 2018, o colégio eleitoral brasileiro apresentava:

- a) maior número de eleitores que eleitoras.
- b) mais de 140 milhões de eleitores, o maior da história.
- c) uma diminuição em relação ao número de eleitores da eleição passada.
- d) a maior quantidade de eleitores na faixa entre vinte e trinta anos.
- e) aproximadamente 60 milhões de eleitores, sendo a maioria do sexo feminino.

GABARITO:

1) Gab: C

2) Gab: C

3) Gab: D

contrário, uma pirâmide etária que apresenta sua parte superior mais larga indica um maior número de idosos, o que permite concluir que é maior a expectativa de vida, reflexo de melhores condições socioeconômicas, observáveis na pirâmide etária relativa à população branca.

16) Gab: B

- b) Os fatores socioeconômicos que podem designar a diferenciação entre as duas pirâmides destacadas são:

17) Gab: D

18) Gab: A

Na primeira temos uma expectativa de vida superior a segunda, esse fator está intimamente ligado ao acesso à informação, educação, sistema de saúde em geral, acesso a vacinação e saneamento básico, esses fatores são decisivos para altos índices de natalidade e mortalidade, países que resolvem essas questões dão a sua população maior longevidade. Não obstante, temos que atentar que as duas pirâmides mostradas são sobre o Brasil em 2008 e possuem diferenças importantes quanto à expectativa de vida da população branca e negra nesse país, o que marca forte desigualdade existente no país.

19) Gab: C

20) Gab: D

21) Gab: A

22) Gab: 04

- c) As pirâmides etárias indicam que a população branca apresenta melhor padrão socioeconômico, portanto apresenta maior expectativa de vida. A menor longevidade da população parda e preta, decorrente de seu menor padrão socioeconômico, faz com que a reforma do sistema previdenciário pese mais sobre esses segmentos da população, os quais apresentarão menor percentual de indivíduos que conseguirão desfrutar da aposentadoria.

23) Gab: E

24) Gab: B

25) Gab: D

26) Gab: B

12) Gab: E

27) Gab: D

13) Gab: E

28) Gab: C

14) Gab: E

29) Gab: C

15) Gab: B

30) Gab: A

31) Gab: A

32) Gab: B

33) Gab: A

34) Gab: B

35) Gab: D

36) Gab: A

37) Gab: B

38) Gab: C

39) Gab: A

40) Gab: B