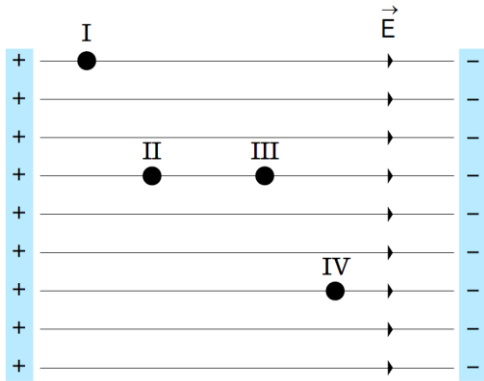


Questão 01 - (UERJ/2019)

Na ilustração, estão representados os pontos I, II, III e IV em um campo elétrico uniforme.

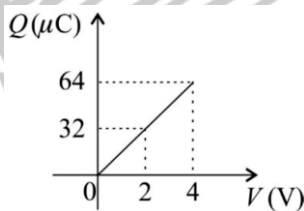


Uma partícula de massa desprezível e carga positiva adquire a maior energia potencial elétrica possível se for colocada no ponto:

- a) I
- b) II
- c) III
- d) IV

Questão 02 - (UFPR/2019)

Um dado capacitor apresenta uma certa quantidade de carga Q em suas placas quando submetido a uma tensão V . O gráfico ao lado apresenta o comportamento da carga Q (em microcoulombs) desse capacitor para algumas tensões V aplicadas (em volts).

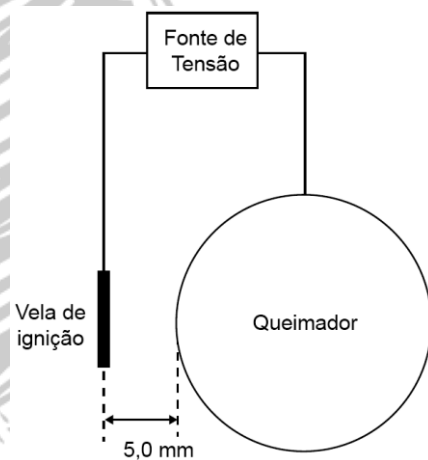


Com base no gráfico, assinale a alternativa que expressa corretamente a energia U armazenada nesse capacitor quando submetido a uma tensão de 3 V.

- a) $U = 24 \mu\text{J}$.
- b) $U = 36 \mu\text{J}$.
- c) $U = 72 \mu\text{J}$.
- d) $U = 96 \mu\text{J}$.
- e) $U = 144 \mu\text{J}$.

Questão 03 - (FM Petrópolis RJ/2019)

A Rigidez Dielétrica é o campo elétrico mínimo, no qual um material isolante se torna condutor elétrico. No caso do ar, a Rigidez Dielétrica é $3,0 \times 10^6 \text{ V/m}$, e a corrente elétrica, neste meio, pode ser visualizada por meio de uma faísca elétrica. Este conceito é aplicado ao acendimento automático de chamas. Em um determinado fogão, uma tensão elétrica é estabelecida entre a vela de ignição e o queimador, distantes entre si de 5,0 mm, para o estabelecimento de uma faísca, como mostra o esquema da Figura abaixo.



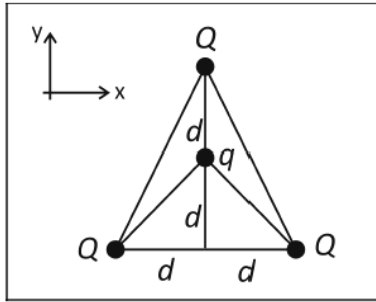
O valor mínimo da tensão a ser aplicada entre a vela de ignição e o queimador, para que haja faísca, é, em kV, aproximadamente,

- a) 3,0
- b) 2,0
- c) 6,0
- d) 1,7
- e) 15

Questão 04 - (FUVEST SP/2019)

Três pequenas esferas carregadas com carga positiva Q ocupam os vértices de um triângulo, como mostra a figura. Na parte interna do triângulo, está afixada outra pequena esfera, com carga negativa q . As distâncias dessa carga às outras três podem ser obtidas a partir da figura.

Um estagiário do curso de Engenharia Elétrica da UPM – Universidade Presbiteriana Mackenzie – montou um circuito com o objetivo de acumular energia da ordem de mJ (milijoule). Após algumas tentativas, ele vibrou com a montagem do circuito abaixo, cuja energia potencial elétrica acumulada vale, em mJ,



Sendo $Q = 2 \times 10^{-4} \text{ C}$, $q = -2 \times 10^{-5} \text{ C}$ e $d = 6 \text{ m}$, a força elétrica resultante sobre a carga q

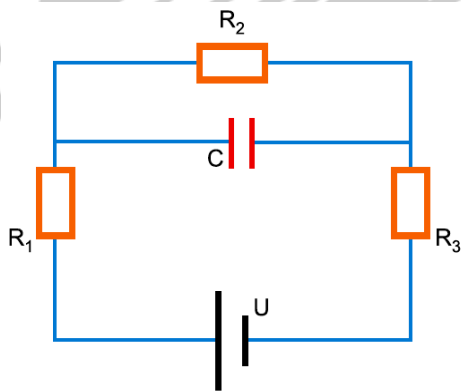
- é nula.
- tem direção do eixo y , sentido para baixo e módulo $1,8 \text{ N}$.
- tem direção do eixo y , sentido para cima e módulo $1,0 \text{ N}$.
- tem direção do eixo y , sentido para baixo e módulo $1,0 \text{ N}$.
- tem direção do eixo y , sentido para cima e módulo $0,3 \text{ N}$.

Note e adote:

A constante k_0 da lei de Coulomb vale $9 \times 10^9 \text{ N m}^2/\text{C}^2$

Questão 05 - (IBMEC SP Insuper/2019)

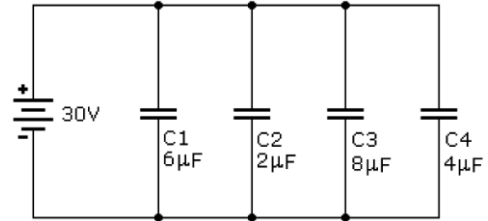
No circuito ideal esquematizado na figura, o gerador fornece uma tensão contínua de 200 V . As resistências dos resistores ôhmicos são $R_1 = R_3 = 20 \Omega$, $R_2 = 60 \Omega$ e a capacitância do capacitor é $C = 2,0 \times 10^{-6} \text{ F}$.



Nessas condições, a quantidade de carga acumulada no capacitor será, em C , igual a

- $2,4 \times 10^{-3}$
- $2,4 \times 10^{-4}$
- $1,2 \times 10^{-3}$
- $1,2 \times 10^{-4}$
- $2,0 \times 10^{-3}$

Questão 06 - (Mackenzie SP/2019)



- 2
- 3
- 4
- 6
- 9

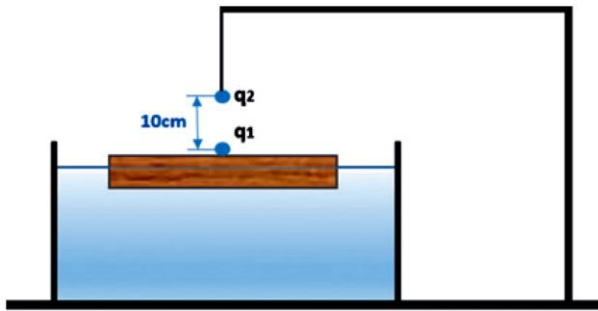
TEXTO: 1 - Comuns às questões: 7, 8

Quando necessário, adote os valores da tabela:

- módulo da aceleração da gravidade: 10 m.s^{-2}
- calor específico da água: $1,0 \text{ cal.g}^{-1}.\text{°C}^{-1}$
- densidade da água: 1 g.cm^{-3}
- $1 \text{ atm} = 1,0 \times 10^5 \text{ Pa}$
- $k = 9 \times 10^9 \text{ N.m}^2.\text{C}^{-2}$
- $1 \text{ cal} = 4,0 \text{ J}$

Questão 07 - (PUC SP/2019)

Uma placa retangular de madeira *Pinus elliottii*, cuja densidade é igual a $0,5 \text{ g/cm}^3$, possui as seguintes dimensões de arestas: $20 \text{ cm} \times 40 \text{ cm} \times 8 \text{ cm}$. Ela encontra-se boiando em equilíbrio no interior de uma cuba preenchida com benzeno, cuja densidade é de $0,9 \text{ g/cm}^3$. Depois de um certo instante, no centro da superfície emersa da placa de madeira, é fixada uma pequenina esfera metálica, de massa desprezível e eletrizada com carga $q_1 = -1,0 \mu\text{C}$. Então, o sistema “madeira+esfera” é posicionado abaixo de um outro sistema formado por uma pequenina esfera metálica, idêntica àquela fixada na madeira, um fio isolante e um suporte também isolante. Essa segunda esferinha metálica está eletrizada com carga $q_2 = +20,0 \mu\text{C}$. A distância entre os centros das esferas, consideradas pontuais, é de 10 cm , conforme indica a figura. Após alguns segundos, verifica-se o equilíbrio dos sistemas. Nas condições de equilíbrio, determine a razão aproximada, em porcentagem (%), entre os volumes imersos da placa de madeira com e sem a presença das esferinhas metálicas:

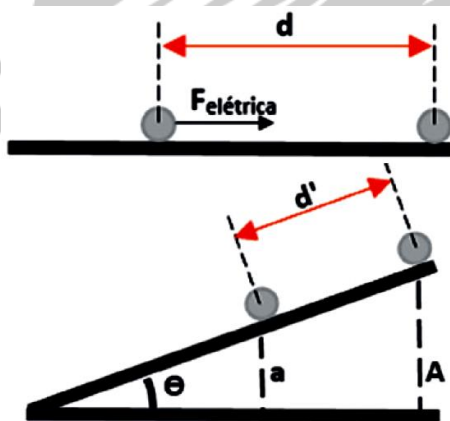


- a) 55.
- b) 50.
- c) 45.
- d) 35.

Questão 08 - (PUC SP/2019)

Uma partícula esférica eletrizada com carga de módulo igual a q , de massa m , quando colocada em uma superfície plana, horizontal, perfeitamente lisa e com seu centro a uma distância d do centro de outra partícula eletrizada, fixa e também com carga de módulo igual a q , é atraída por ação da força elétrica, adquirindo uma aceleração α . Sabe-se que a constante eletrostática do meio vale K e o módulo da aceleração da gravidade vale g .

Determine a nova distância d' , entre os centros das partículas, nessa mesma superfície, porém, com ela agora inclinada de um ângulo θ , em relação ao plano horizontal, para que o sistema de cargas permaneça em equilíbrio estático:



- a) $d' = \frac{P \cdot \text{sen}\theta \cdot k \cdot q^2}{(A - a)}$
- b) $d' = \frac{k \cdot q^2}{P(A - a)}$
- c) $d' = \frac{P \cdot k \cdot q^2}{(A - a)}$
- d) $d' = \frac{k \cdot q^2 \cdot (A - a)}{P \cdot \text{sen}\theta}$

Questão 09 - (PUCCAMP SP/2019)

Duas partículas, A e B, eletrizadas com cargas positivas, são colocadas próximas uma da outra, no vácuo. Sabe-se que as massas das partículas são iguais e que a carga elétrica da partícula A é maior que a carga elétrica da partícula B. Considerando que sobre as partículas atuem apenas as forças de natureza eletrostática, de acordo com as leis de Coulomb e de Newton, imediatamente após serem soltas, as partículas se

- a) repelem e ficam sujeitas à mesma aceleração.
- b) repelem e a aceleração a que a partícula A fica sujeita é menor que a da partícula B.
- c) repelem e a aceleração a que a partícula A fica sujeita é maior que a da partícula B.
- d) atraem e ficam sujeitas à mesma aceleração.
- e) atraem e a aceleração a que a partícula A fica sujeita é menor que a da partícula B.

Questão 10 - (UNIFOR CE/2019)

A preservação do meio ambiente é um dever de todos. Em especial, as indústrias que emitem gases devem controlar a emissão de poluentes no ambiente e o não cumprimento dessa obrigação é passível de advertências e multas. O Conselho Nacional do Meio Ambiente (CONAMA) estabelece três normas que regulam a emissão de efluentes atmosféricos provenientes de fontes fixas, CONAMA 08/90, 382/06 e 436/11, fixando assim os limites máximos admissíveis para a emissão de poluentes. Uma solução eficaz adotada pelas indústrias para controlar esses índices é o uso de um tipo de filtro, conhecido como precipitador eletrostático, que retém as partículas de poluição e as ionizam fazendo com que adquiram carga elétrica. As placas de coleta contidas nas laterais do precipitador atraem as partículas carregadas deixando-as retidas, sendo assim capazes de eliminar mais de 99% das cinzas de poluição. A figura a seguir mostra um comparativo da poluição do ar quando (a) esse equipamento está em funcionamento e (b) quando está desativado.



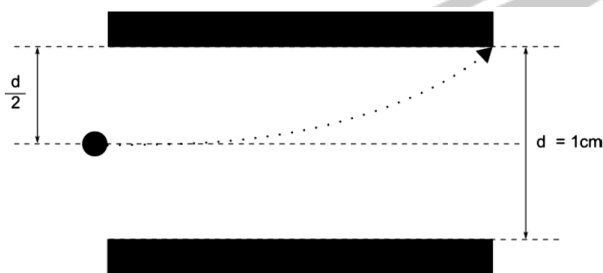
(a)



(b)

Raymond A. Serway ; John W. Jewett Jr.
Física Para Cientistas e Engenheiros. Vol. 3 - 8ª Ed.
2012 (Adaptado)

Um dos gases poluentes emitidos pelas fábricas é o óxido de enxofre cuja densidade é $\rho = 2,60 \text{ kg/m}^3$. Uma partícula de poluição de raio $r = 5,0 \times 10^{-4} \text{ m}$ está inicialmente centralizada entre as placas do coletor cuja distância vertical é $d = 1,0 \text{ cm}$, conforme figura a seguir. A partícula leva um tempo total de 1 segundo para atravessar completamente essa região. Quando uma diferença de potencial igual a $8,125 \times 10^4 \text{ volts}$ é estabelecida entre as placas do coletor, essa partícula sofre uma deflexão podendo atingir uma dessas placas e ficar retida, filtrando o ar.



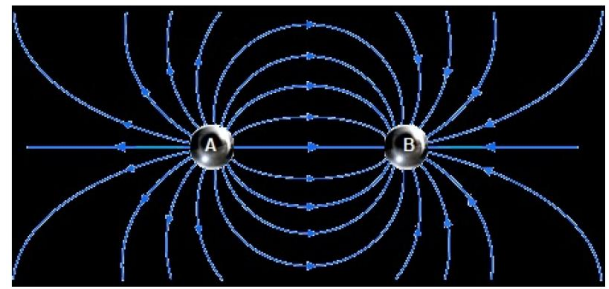
Qual deve ser a carga mínima que a partícula deve receber para que fique retida nesse coletor?
(Considere a partícula esférica e use $\pi = 3$)

- $1,6 \times 10^{-19} \text{ C}$
- $3,2 \times 10^{-19} \text{ C}$
- $11,2 \times 10^{-19} \text{ C}$
- $14,4 \times 10^{-19} \text{ C}$
- $16,0 \times 10^{-19} \text{ C}$

Questão 11 - (IFMT/2019)

As linhas de força de campo elétrico foram descobertas pelo físico experimentalista Michael Faraday, no século XVIII. Com essa descoberta, Faraday pôs fim ao intenso debate entre os físicos daquela época sobre a ideia da ação de uma força a distância, possibilitando uma melhor compreensão desse fenômeno, alavancando, assim, o estudo da eletricidade naquele século. Baseando-se na disposição que a limalha de ferro assumia diante de um ímã ou de uma partícula eletrizada, Faraday podia descobrir a intensidade do campo, a direção da força elétrica e, ainda, se o corpo estava carregado com carga elétrica negativa ou positiva.

Considerando os aspectos verbais do texto e visuais da figura abaixo, assinale a alternativa CORRETA:



- O campo elétrico da esfera A é maior que o campo elétrico da esfera B.
- Tanto a esfera A quanto a esfera B estão eletrizadas com cargas de mesmo sinal.
- A carga da esfera A é positiva e a carga da esfera B é negativa.
- A carga da esfera A é negativa e a carga da esfera B é positiva.
- O campo elétrico da esfera B é maior que o campo elétrico da esfera A.






Questão 12 - (UNCISAL AL/2019)

Nos manuais dos fornos de micro-ondas, normalmente há a seguinte recomendação: não utilizar utensílios metálicos no micro-ondas, pois faíscas podem ser geradas, danificando-se o aparelho. Essa recomendação deve-se ao fato de os metais serem bons condutores de eletricidade, o que facilita o surgimento de faíscas no interior do forno em funcionamento.



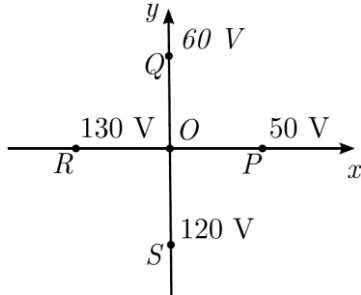
Disponível em: <http://br.freepik.com> (adaptado).

Qual destes arranjos de talheres de metal gerará um maior número de faíscas se colocado no interior do forno de microondas a ser posto em funcionamento, desobedecendo-se às orientações do manual?

- 
- 
- 
- 
- 

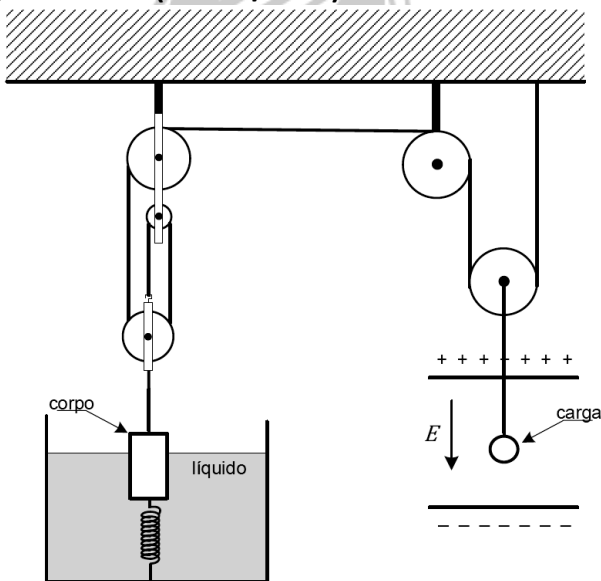
Questão 13 - (ITA SP/2019)

Na figura mostra-se o valor do potencial elétrico para diferentes pontos P(50 V), Q(60 V), R(130 V) e S(120 V) situados no plano xy. Considere o campo elétrico uniforme nessa região e o comprimento dos segmentos \overline{OP} , \overline{OQ} , \overline{OR} e \overline{OS} igual a 5,0 m. Pode-se afirmar que a magnitude do campo elétrico é igual a



- a) 12,0 V/m.
- b) 8,0 V/m.
- c) 6,0 V/m.
- d) 10,0 V/m.
- e) 16,0 V/m.

Questão 14 - (IME RJ/2019)



Um corpo encontra-se com 2/3 de seu volume submerso. Uma de suas extremidades está presa por uma corda a um conjunto de roldanas que suspende uma carga puntiforme submetida a um campo elétrico uniforme. A outra extremidade está presa a uma mola distendida que está fixa no fundo do recipiente. Este sistema se encontra em equilíbrio e sua configuração é mostrada na figura acima. Desprezando os efeitos de borda no campo elétrico, a deformação da mola na condição de equilíbrio é:

Dados:

- a corda e as roldanas são ideais;
- aceleração da gravidade: g;

- massa específica do fluido: ρ ;
- massa específica do corpo: 2ρ ;
- constante elástica da mola: k;
- volume do corpo: V;
- intensidade do campo elétrico uniforme: E;
- massa da carga elétrica: m; e
- carga elétrica: +q.

- a) $\frac{g}{k} \left(\frac{m}{2} - \frac{4\rho V}{3} \right) + \frac{qE}{2k}$
- b) $\frac{g}{k} \left(\frac{3m}{2} - \frac{4\rho V}{3} \right) + \frac{3qE}{2k}$
- c) $\frac{g}{3k} (m - 4\rho V + qE) + \frac{qE}{k}$
- d) $\frac{g}{k} \left(\frac{mg}{2} - \frac{4\rho V}{3} \right) + \frac{qE}{2k}$
- e) $\frac{mg}{k} \left(\frac{qE}{d} - \frac{2\rho V}{3} \right)$

Questão 15 - (IME RJ/2019)

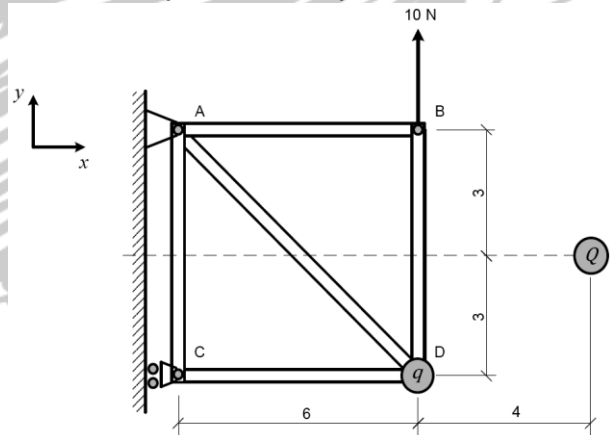
Considere as seguintes grandezas e suas dimensionais:

- Calor específico – [c]
- Coefficiente de dilatação térmica – [α]
- Constante eletrostática – [k]
- Permeabilidade magnética – [μ]

A alternativa que expressa uma grandeza adimensional é:

- a) $[c][\alpha]^{-1}[k][\mu]$
- b) $[c][\alpha]^{-1}[k]^{-1}[\mu]$
- c) $[c][\alpha]^{-1}[k][\mu]^{-1}$
- d) $[c][\alpha]^{-2}[k][\mu]^{-2}$
- e) $[c][\alpha]^{-2}[k]^{-1}[\mu]^{-2}$

Questão 16 - (IME RJ/2019)



A figura mostra uma estrutura composta pelas barras AB, AC, AD e CD e BD articuladas em suas extremidades. O apoio no ponto A impede os deslocamentos nas direções x e y, enquanto o apoio no ponto C impede o deslocamento apenas na direção x. No ponto D dessa estrutura encontra-se uma partícula elétrica de carga positiva q. Uma partícula elétrica de carga positiva Q encontra-se posicionada no ponto indicado na figura. Uma força de 10 N é aplicada no ponto B, conforme indicada na figura. Para que a força de reação no ponto C seja zero, o produto $q \cdot Q$ deve ser igual a:

Observação:

- as barras e partículas possuem massa desprezível; e
- as distâncias nos desenhos estão representadas em metros.

Dado:

- constante eletrostática do meio: k.

- a) $\frac{1250}{7k}$
 b) $\frac{125}{70k}$
 c) $\frac{7}{1250k}$
 d) $\frac{1250}{k}$
 e) $\frac{k}{1250}$

Questão 17 - (UEPG PR/2019)

Uma pequena gota esférica de óleo se encontra em repouso no ar em um ponto localizado entre as duas placas de um capacitor de placas paralelas entre si e ao solo. Cada placa do capacitor possui uma área de 25 cm² e estão separadas por uma distância de 1 cm. Se uma diferença de potencial de 5 V é aplicada no capacitor e considerando que a gota de óleo não modifica as propriedades do capacitor, assinale o que for correto.

01. A razão entre a carga elétrica e a massa da gota de óleo é 0,02 C/kg.
 02. Se a carga elétrica da gota de óleo for negativa, o campo elétrico e a força peso terão o mesmo sentido.
 04. A carga elétrica distribuída em cada placa do capacitor é $1,25 \epsilon_0$ Vm.
 08. A capacitância do capacitor é $25 \times 10^{-2} \epsilon_0$ m.
 16. O módulo do campo elétrico na região situada entre as placas do capacitor é 250 N/C.

Questão 18 - (UEPG PR/2019)

Considere duas cargas puntiformes idênticas, situadas no vácuo e separadas entre si por uma distância R. Diante disso, assinale o que for correto.

01. Em um ponto situado a uma distância de R/2 entre as duas cargas, o valor do campo elétrico será nulo.
 02. A força elétrica entre as cargas puntiformes é diretamente proporcional ao quadrado de R.
 04. O sistema de cargas descrito no enunciado possui uma energia potencial elétrica.
 08. O sentido do campo elétrico num dado ponto do espaço depende do sinal da carga que o produz.
 16. Se as duas cargas forem positivas, a força entre elas será atrativa e, se forem negativas, será repulsiva.

Questão 19 - (UEM PR/2019)

Seja ABC um triângulo equilátero de lado medindo l. Em cada um dos vértices A, B e C, bem como no ponto médio de M do lado BC, há uma partícula com cargas que denotamos por q_A , q_B , q_C e q_M , respectivamente. Considerando somente as forças elétricas entre essas quatro partículas, assinale o que for **correto**.

01. Se as quatro cargas forem positivas, então as partículas se repelem duas a duas.
 02. Se $q_A = 0$ e q_B e q_C tiverem mesmo módulo e sinais contrários, então o sistema estará em equilíbrio, independentemente do sinal de q_M .
 04. Se as cargas q_A , q_B , q_C e q_M forem todas iguais a q, então o módulo da força elétrica resultante sobre a partícula em M será $\frac{K}{3} \left(\frac{2q}{l} \right)^2$, em que K é a constante eletrostática do vácuo.
 08. Em cada uma das quatro partículas há 3 forças elétricas agindo.
 16. O segmento AM não é a bissetriz do ângulo Â.

Questão 20 - (UEM PR/2019)

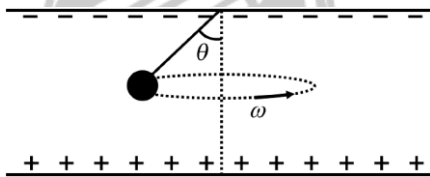
Uma pequena esfera eletricamente carregada, de massa $m = 10g$ e carga $q = -5 \times 10^{-6}C$, cai verticalmente a partir do repouso em uma região em que atua um campo elétrico constante e uniforme \vec{E} . Esse campo tem direção vertical, aponta para baixo e tem módulo igual a 200 V/m (\vec{E} é paralelo ao campo gravitacional da Terra no local do experimento). Despreze a resistência do ar e considere $g = 9,8m/s^2$. Assinale o que for **correto**.

01. Apesar da presença do campo elétrico, a esfera cai com aceleração constante e igual a g, visto que seu peso é igual a mg.

02. Em módulo, a velocidade da esfera é igual a 4,85m/s após meio segundo de queda.
04. A esfera percorre 4,85m no primeiro segundo de queda.
08. A razão entre o peso da esfera e a força de origem eletrostática que atua sobre ela, em módulo, é igual a 98.
16. Se a resistência do ar fosse levada em conta, a velocidade terminal da esfera não dependeria de \vec{E} .

Questão 21 - (FUVEST SP/2019)

Duas placas metálicas planas e circulares, de raio R, separadas por uma distância $d \ll R$, estão dispostas na direção horizontal. Entre elas, é aplicada uma diferença de potencial V, de modo que a placa de cima fica com carga negativa e a de baixo, positiva. No centro da placa superior, está afixado um fio isolante de comprimento $L < d$ com uma pequena esfera metálica presa em sua extremidade, como mostra a figura. Essa esfera tem massa m e está carregada com carga negativa $-q$. O fio é afastado da posição de equilíbrio de um ângulo θ , e a esfera é posta em movimento circular uniforme com o fio mantendo o ângulo θ com a vertical.



Determine

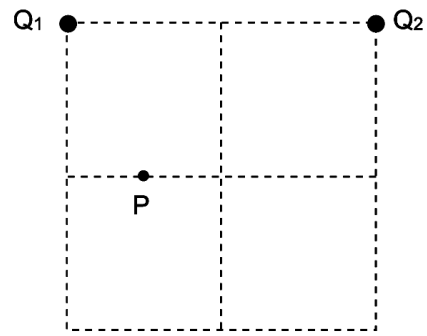
- a) o módulo E do campo elétrico entre as placas;
- b) os módulos T e F, respectivamente, da tração no fio e da força resultante na esfera;
- c) a velocidade angular ω da esfera.

Note e adote:

A aceleração da gravidade é g.
Forças dissipativas devem ser ignoradas.

Questão 22 - (FCM MG/2019)

Duas partículas com cargas de mesmo sinal Q_1 e Q_2 encontram-se nos vértices do lado horizontal de um quadrado. O ponto P situa-se na metade de uma das arestas do quadrado menor, como ilustrado na figura. A carga Q_1 cria no ponto P um campo elétrico de módulo E.

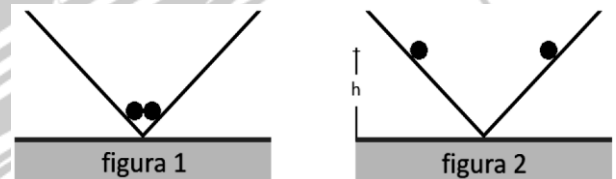


Para que o campo elétrico resultante no ponto P, devido às duas cargas, seja na direção vertical, o campo elétrico criado pela carga Q_2 terá módulo de

- a) 2E.
b) 3E.
c) E/2.
d) E/3.

Questão 23 - (UFRGS/2019)

Duas pequenas esferas idênticas, contendo cargas elétricas iguais, são colocadas no vértice de um perfil quadrado de madeira, sem atrito, conforme representa a figura 1 abaixo.




As esferas são liberadas e, devido à repulsão elétrica, sobem pelas paredes do perfil e ficam em equilíbrio a uma altura h em relação à base, conforme representa a figura 2.

Sendo P, F_e e N, os módulos, respectivamente, do peso de uma esfera, da força de repulsão elétrica entre elas e da força normal entre uma esfera e a parede do perfil, a condição de equilíbrio ocorre quando

- a) $P = F_e$.
b) $P = -F_e$.
c) $P - F_e = N$.
d) $F_e - P = N$.
e) $P + F_e = N$.

Questão 24 - (UFRGS/2019)

Na figura abaixo, está representado, em corte, um sistema de três cargas elétricas com seu respectivo conjunto de superfícies equipotenciais.



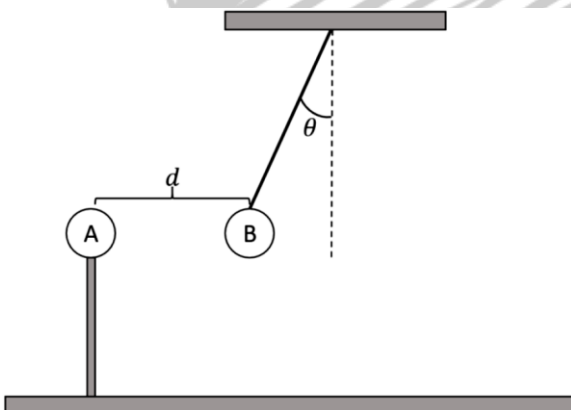
Assinale a alternativa que preenche corretamente as lacunas do enunciado abaixo, na ordem em que aparecem.

A partir do traçado das equipotenciais, pode-se afirmar que as cargas têm sinais e que os módulos das cargas são tais que

- a) 1 e 2 – iguais – $q_1 < q_2 < q_3$
- b) 1 e 3 – iguais – $q_1 < q_2 < q_3$
- c) 1 e 2 – opostos – $q_1 < q_2 < q_3$
- d) 2 e 3 – opostos – $q_1 > q_2 > q_3$
- e) 2 e 3 – iguais – $q_1 > q_2 > q_3$

Questão 25 - (Faculdade Pequeno Príncipe PR/2019)

Um estudante de física faz um experimento com o objetivo de determinar a carga de uma determinada esfera. A montagem do experimento inclui uma esfera A, de carga igual a $8 \mu\text{C}$, apoiada em um suporte isolante, e a esfera B, de carga desconhecida, presa a um fio isolante que, por sua vez, está fixado em outro suporte. As esferas encontram-se alinhadas horizontalmente, tendo seus centros distantes em 30 cm. O fio que prende a esfera B forma um ângulo θ com a vertical.



Para a situação descrita, faça as seguintes considerações:

- Massa da esfera B de 160 g.
- Aceleração da gravidade local de 10 m/s^2 .
- $\text{tg}\theta = 1$
- As dimensões das esferas podem ser desprezadas.
- A constante eletrostática do meio igual a $9 \times 10^9 \text{ N.m}^2/\text{C}^2$.

Determine o módulo da carga da esfera B, em μC .

- a) 0,50.
- b) 2,0.
- c) 4,0.
- d) 8,0.
- e) 10.


Questão 26 - (PUCCAMP SP/2019)

Uma carga elétrica de 5,0 C se deslocou entre dois pontos do campo elétrico existente no interior de uma nuvem e, nesse deslocamento, recebeu do campo elétrico uma quantidade de energia igual a $2,5 \times 10^4 \text{ J}$. A diferença de potencial elétrico entre esses dois pontos era, em módulo, igual a

- a) $2,25 \times 10^3 \text{ V}$.
- b) $5,0 \times 10^3 \text{ V}$.
- c) $2,5 \times 10^4 \text{ V}$.
- d) $5,0 \times 10^4 \text{ V}$.
- e) $1,25 \times 10^5 \text{ V}$.

Questão 27 - (UFU MG/2019)

Um estudante realiza um experimento, utilizando duas moedas, um palito de fósforo, um balão de festa e um copo plástico descartável transparente. Primeiramente, ele coloca o palito de fósforo em equilíbrio sobre uma moeda posicionada na vertical, que se equilibra sobre a segunda moeda na horizontal. Em seguida, cobre o sistema com o copo descartável. Em um outro momento, ele infla o balão e o esfrega no próprio cabelo. Por fim, ele aproxima o balão do palito de fósforo pelo lado de fora do copo de plástico e movimenta o balão em volta do copo. Como resultado, o estudante observa que o palito de fósforo gira sobre a moeda, acompanhando o movimento do balão. A figura mostra o dispositivo montado.



<http://www.manualdomundo.com.br>. Acesso em 02.fev.2019. (Adaptado)

Qual a explicação para o fato de o palito acompanhar o movimento do balão?

- O balão se magnetiza ao ser inflado, e ele atrai o palito pelo fato de o material que compõe a cabeça do palito ser um material magnético.
- O balão se aquece após o atrito com o cabelo e, ao se aproximar do copo, provoca correntes de convecção no ar em seu interior, gerando o movimento do palito de fósforo.
- As moléculas do balão se ionizam após o atrito com o cabelo e, ao se aproximarem da moeda condutora, a ionizam com carga oposta, gerando um campo elétrico que faz o palito de fósforo se mover.
- O balão se eletriza após atrito com o cabelo e, ao se aproximar do palito de fósforo, o atrai por indução eletrostática.

Questão 28 - (Uninorte AC/2019)

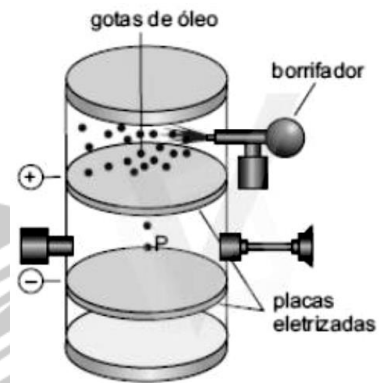
A energia armazenada em um capacitor é utilizada em desfibriladores – equipamentos médicos capazes de estimular um coração com dificuldades de contração. Os desfibriladores clássicos possuem duas placas que devem ser posicionadas sobre o tórax do paciente, de forma que a descarga elétrica atinja o coração. Considerando-se um capacitor plano de $100,0 \mu\text{F}$ submetido a uma diferença de potencial elétrico de $100,0\text{V}$ e sabendo-se que entre as armaduras do capacitor existe vácuo, pode-se afirmar que a energia armazenada no capacitor é igual a

- 600,0mJ
- 500,0mJ
- 400,0mJ
- 300,0mJ
- 200,0mJ

Questão 29 - (UniRV GO/2019)

A medição da carga elementar foi realizada através de uma aparelhagem (dispositivo de Millikan) que consiste em borrifar minúsculas gotas de óleo para

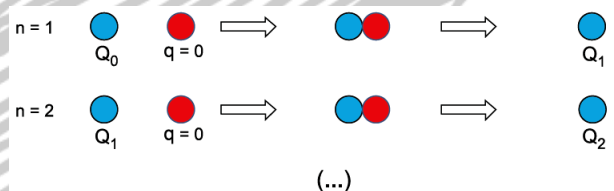
dentro de uma câmara (ver figura). Algumas se carregam eletricamente no processo. Considere uma gota de óleo com raio de $1,5 \mu\text{m}$ e massa específica de $0,8 \text{ g/cm}^3$ atravessando um pequeno orifício na placa catódica. Esta fica suspensa entre as placas eletrizadas por ação de um campo elétrico de $1,2 \times 10^5 \text{ N/C}$. Dada a situação, assinale V (verdadeiro) ou F (falso) para as alternativas. (Dados: $g = 10 \text{ m/s}^2$ e $K = 9 \times 10^9 \text{ Nm}^2/\text{C}^2$)



- A carga da gota suspensa é de $3 \times 10^{-16} \pi\text{C}$.
- A carga da gota suspensa é de $3 \times 10^{-19} \pi\text{C}$.
- Se aumentarmos a intensidade do campo elétrico gerado entre as placas carregadas, a gota de óleo acelera para cima.
- Se aumentarmos a intensidade do campo elétrico gerado entre as placas carregadas, a gota de óleo acelera para baixo.

Questão 30 - (Univag MT/2019)

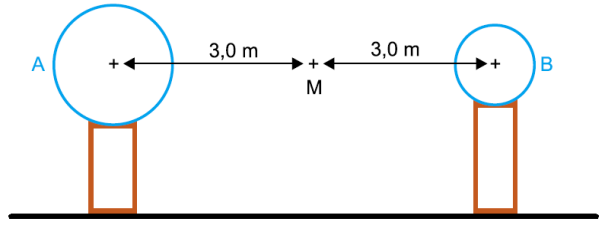
Uma esfera azul, feita de um material metálico bom condutor, está carregada eletricamente com uma carga Q_0 . Ela é colocada em contato com uma esfera vermelha, de mesmo tamanho e de mesmo material, inicialmente neutra. Posteriormente, essas esferas são separadas e o procedimento se repete com a primeira esfera azul sendo colocada em contato com outra esfera neutra idêntica à vermelha, conforme o esquema.



Se esse procedimento for repetido n vezes, a carga final Q_n da esfera azul será igual a

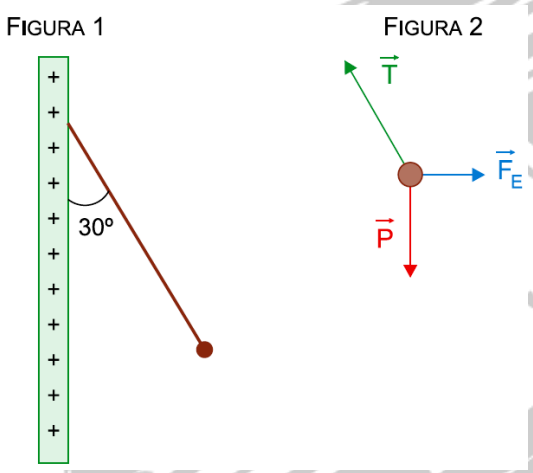
- $\frac{Q_0}{n}$
- $\frac{Q_0}{2}$

- c) $\frac{Q_0}{2^n}$
- d) $\frac{Q_0}{n^2}$
- e) $\frac{Q_0}{2n}$



Questão 31 - (Universidade Municipal de São Caetano do Sul SP/2019)

A figura 1 mostra uma esfera eletrizada com carga $q = 6,0 \mu\text{C}$, suspensa por um fio isolante de peso desprezível, que forma um ângulo de 30° com uma placa plana, vertical e eletrizada com carga positiva. A figura 2 mostra as forças peso P , tração T e elétrica F_E , as únicas que atuam sobre a esfera quando esta se encontra em equilíbrio.



Sabendo que a força de tração é igual a $2,4 \times 10^{-2} \text{ N}$, que $\sin 30^\circ = 0,50$ e que $\cos 30^\circ = 0,87$, a intensidade do campo elétrico gerado pela placa, no ponto em que está a esfera, é igual a

- a) $2,0 \times 10^3 \text{ N/C}$.
- b) $3,5 \times 10^3 \text{ N/C}$.
- c) $4,0 \times 10^3 \text{ N/C}$.
- d) $5,5 \times 10^3 \text{ N/C}$.
- e) $1,0 \times 10^3 \text{ N/C}$.

Questão 32 - (FAMERP SP/2019)

Duas esferas metálicas de dimensões diferentes, situadas no ar, são eletrizadas e colocadas sobre suportes isolantes com seus centros distando 6,0 metros entre si. As esferas são unidas com um fio condutor até que atinjam o equilíbrio eletrostático, situação em que a esfera A fica eletrizada com carga positiva de valor $8,0 \times 10^{-8} \text{ C}$ e a esfera B com carga também positiva de valor $5,0 \times 10^{-8} \text{ C}$.

- a) Considerando que, para atingir o equilíbrio, $2,0 \times 10^{11}$ elétrons foram transferidos entre as esferas, que a carga de cada elétron é, em módulo, $1,6 \times 10^{-19} \text{ C}$ e que o processo durou $4,0 \times 10^{-6}$ segundos, calcule a intensidade média da corrente elétrica, em ampères, que percorreu o condutor nesse intervalo de tempo.
- b) Considerando a constante eletrostática do ar igual a $9,0 \times 10^9 \text{ (N.m}^2\text{)/C}^2$, calcule a intensidade do campo elétrico, em N/C , resultante da ação das cargas elétricas das duas esferas no ponto M.

Questão 33 - (FGV/2019)

Na figura, está representada uma linha retilínea de um campo elétrico; A e B são pontos pertencentes a esta linha, e vale a relação $V_A > V_B$ de seus potenciais elétricos:

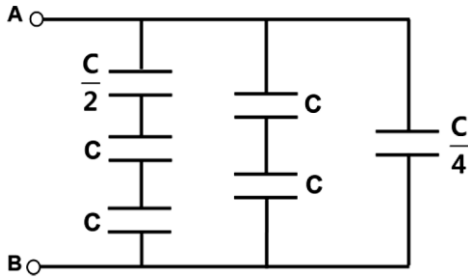


Trata-se de um campo elétrico _____, orientado de _____, e uma partícula eletrizada _____ se deslocaria espontaneamente de _____.

A alternativa que preenche, correta e respectivamente, as lacunas é:

- a) uniforme ... B para A ... negativamente ... A para B
- b) uniforme ... A para B ... positivamente ... B para A
- c) não uniforme ... B para A ... negativamente ... A para B
- d) uniforme ou não uniforme ... A para B ... positivamente ... B para A
- e) uniforme ou não uniforme ... A para B ... negativamente ... B para A

Questão 34 - (Mackenzie SP/2018)



Na associação de capacitores, esquematizada acima, a capacitância está indicada na figura para cada um dos capacitores. Assim, a capacitância equivalente, entre os pontos A e B no circuito, é

- a) C.
- b) 2C.
- c) 3C.
- d) 4C.
- e) 8C.

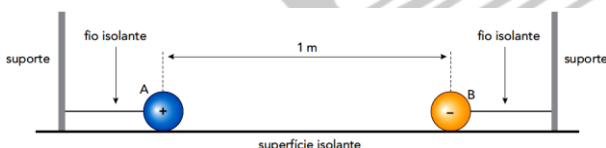
Questão 35 - (Fac. Direito de São Bernardo do Campo SP/2018)

Uma partícula de massa igual a $1,7 \times 10^{-27}$ kg, executa um movimento retilíneo e uniforme na direção horizontal sobre uma extensa placa metálica plana e horizontal. A placa está intensamente eletrizada, com carga uniformemente distribuída em toda sua superfície. Sendo a intensidade do módulo do campo elétrico igual a $1,06 \times 10^{-7}$ V/m, determine, em coulombs, o módulo aproximado da carga elétrica da partícula. Adote $g = 10 \text{ m/s}^2$.

- a) $1,8 \times 10^{-34}$
- b) $1,6 \times 10^{-34}$
- c) $1,8 \times 10^{-19}$
- d) $1,6 \times 10^{-19}$

Questão 36 - (UERJ/2018)

O esquema abaixo representa as esferas metálicas A e B, ambas com massas de 10^{-3} kg e carga elétrica de módulo igual a 10^{-6} C. As esferas estão presas por fios isolantes a suportes, e a distância entre elas é de 1 m.



Admita que o fio que prende a esfera A foi cortado e que a força resultante sobre essa esfera corresponde apenas à força de interação elétrica. Calcule a aceleração, em m/s^2 , adquirida pela esfera A imediatamente após o corte do fio.

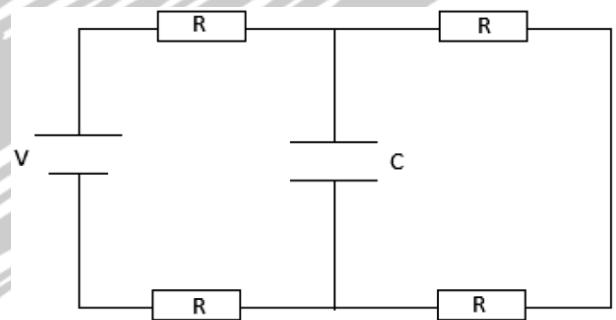
Questão 37 - (PUCCAMP SP/2018)

No interior das *válvulas* que comandavam os tubos dos antigos televisores, os elétrons eram acelerados por um campo elétrico. Suponha que um desses campos, uniforme e de intensidade $4,0 \times 10^2$ N/C, acelerasse um elétron durante um percurso de $5,0 \times 10^{-4}$ m. Sabendo que o módulo da carga elétrica do elétron é $1,6 \times 10^{-19}$ C, a energia adquirida pelo elétron nesse deslocamento era de

- a) $2,0 \times 10^{-25}$ J.
- b) $3,2 \times 10^{-20}$ J.
- c) $8,0 \times 10^{-19}$ J.
- d) $1,6 \times 10^{-17}$ J.
- e) $1,3 \times 10^{-13}$ J.

Questão 38 - (UNITAU SP/2018)

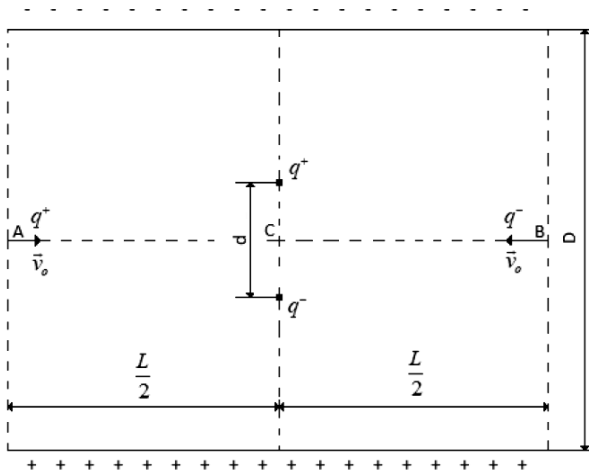
Qual é a carga armazenada no capacitor usado no circuito abaixo, admitindo que o circuito esteja operando em estado permanente e supondo conhecidas a resistência R e a capacitância C?



- a) $1/4 CV$
- b) $1/2 CV$
- c) $2 CV$
- d) $4 CV$
- e) $1 CV$

Questão 39 - (UNITAU SP/2018)

Dois placas quadradas de lado L estão separadas entre si por uma distância D e carregadas com cargas iguais q e de sinais opostos, conforme a figura abaixo.



Se um elétron de carga $1,6 \times 10^{-19}$ C e de massa desprezível, sujeito a uma força constante, se movimentar verticalmente para cima nessa região, percorrendo uma distância $d = 500$ m, a variação de energia potencial elétrica sofrida por ele, nesse trajeto, será de

- a) $-1,5 \times 10^{-14}$ J
- b) $-8,0 \times 10^{-15}$ J
- c) $-1,6 \times 10^{-15}$ J
- d) $-9,0 \times 10^{-15}$ J
- e) $-1,2 \times 10^{-14}$ J

GABARITO:

1) Gab: A

2) Gab: C

3) Gab: E

4) Gab: E

5) Gab: B

6) Gab: E

7) Gab: C

8) Gab: B

9) Gab: A

10) Gab: E

11) Gab: C

12) Gab: E

13) Gab: D

14) Gab: B

15) Gab: B

16) Gab: A

17) Gab: 15

18) Gab: 13

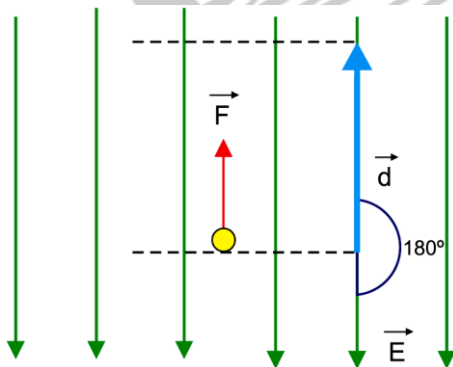
19) Gab: 13

Despreze os efeitos de borda e admita, também, que um campo elétrico uniforme E está estabelecido entre as placas. Quando uma carga positiva de massa m é injetada a partir do ponto A, com módulo de velocidade v_0 e, no mesmo instante, uma carga negativa de mesma massa é injetada com o mesmo módulo de velocidade, a partir do ponto B, é CORRETO afirmar que a distância d entre as cargas, quando as mesmas ficarem alinhadas no ponto C, desconsiderando a força gravitacional, será de

- a) $d = (qEL^2)/(4mv_0^2)$
- b) $d = (qEL^2)/(2mv_0^2)$
- c) $d = (qL^2)/(4Ev_0^2)$
- d) $d = (qL^2)/(2Ev_0^2)$
- e) $d = (qEL)/(4mv_0)$

Questão 40 - (FAMEMA SP/2018)

Raios cósmicos constantemente arrancam elétrons das moléculas do ar da atmosfera terrestre. Esses elétrons se movimentam livremente, ficando sujeitos às forças eletrostáticas associadas ao campo elétrico existente na região que envolve a Terra. Considere que, em determinada região da atmosfera, atue um campo elétrico uniforme de intensidade $E = 100$ N/C, conforme representado na figura.



20) Gab: 14

39) Gab: A

21) Gab:

40) Gab: B

a) $E = \frac{V}{d}$

b) $T = \frac{d \cdot m \cdot g + q \cdot V}{d \cdot \cos \theta}$

$F = \frac{d \cdot m \cdot g + q \cdot V}{d} \cdot \operatorname{tg} \theta$

c) $\omega = \sqrt{\frac{d \cdot m \cdot g + q \cdot V}{m \cdot L \cdot d \cdot \cos \theta}}$

22) Gab: C

23) Gab: A

24) Gab: A

25) Gab: B

26) Gab: B

27) Gab: D

28) Gab: B

29) Gab: FVVF

30) Gab: C

31) Gab: A

32) Gab:

a) $i = 8,0 \times 10^{-3} \text{ A}$

b) $E_R = 30,0 \text{ N/C}$

33) Gab: E

34) Gab: A

35) Gab: D

36) Gab:

$F_E = F_R \rightarrow \frac{K \times q_1 \times q_2}{d^2} = m \times a$

$\frac{9 \times 10^9 \times 10^{-6} \times 10^{-6}}{1^2} = 10^{-3} \times a$

$a = \frac{9 \times 10^9 \times 10^{-6} \times 10^{-6}}{10^{-3}} = 9 \text{ m/s}^2$

37) Gab: B

38) Gab: B